

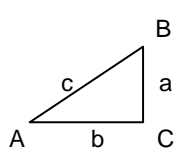
Matematik – naturvidenskaben om Mange

Δ-regning med formelregner

Algebra

$\Delta y = 0$		$y = b$
	$\frac{\Delta y}{\Delta x} = a$	$y = b + a \cdot x$
$\Delta y = k$	$\frac{\Delta y/y}{\Delta x} = a$	$y = b \cdot a^x$
	$\frac{\Delta y/y}{\Delta x/x} = a$	$y = b \cdot x^a$
$\Delta y = f(x)$	$\frac{dy}{dx} = f(x)$	$y = \int f(x) dx$
$\Delta y = ?$		$y = y_{gns} \pm 2 \cdot \Delta y_{gns}$

Geometri



A + B = 90

$c^2 = a^2 + b^2$

$\sin A = \frac{a}{c}$

$\cos A = \frac{b}{c}$

$\tan A = \frac{a}{b}$

Kompendium

- vejen til effektiv læring

Læring formidler viden til hjerner. Et menneske har tre hjerner: en til rutiner, en til følelser og en til mening.

Som naturvidenskab om mange får matematik mening. Og mening giver den lærende lyst til at lære faget ved selv at opbygge rutiner gennem træning.

Matematik forudsiger tals ændring med formler, og består af to hovedområder:

Geometri måler trekanters længder, vinkler og arealer.

Algebra genforener tal med de 2x4 regningsarter

Opsamling: +, *, ^ og ∫

Opdeling: -, /, √ & log og d/dx

Kompendiet medtager matematikkens historie og fagets betydning som et forudsigelses-sprog, der skabte grundlaget for, at et moderne samfund kan opbygges på baggrund af naturvidenskab om stof i rum og tiden.

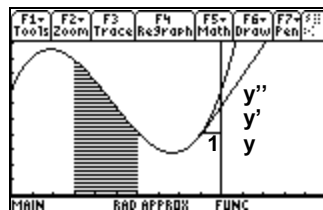
Kompendiet indeholder en introduktion til matematik-modeller, den kvantitative litteratur.

I kompendiet oplever den lærende hele tiden matematik som forudsigelse, der kan testes ved afprøvning.

Kompendiet anvender formelregneren TI-89.

Kompendier til A, B og C samt projektforslag findes på Mellemskolen.net.

+ 0 - 0 + *fortegn for y'*



$$\int_3^6 y dx$$

Indhold

Matematik forudsiger	1
Regningsarter opsamler og opdeler	2
Formler, ligninger og kurver	3
Konstant vækst: Lineær, eksponentiel, og potens	4
Per-tal	5
Variabel vækst, calculus: Polynomier	6
Tal, tabeller og formel-regression	7
Geometri	8
Statistik	9
Sandsynlighedsregning	10
To ligninger med to ubekendte, tre ditto	11
Den kvantitative litteratur: Matematik-modeller	12
Bogstavregning	13
Statistikopgaver	14
Calculusopgaver	15
Polynomopgaver af grad 2	17
Polynomopgaver af grad 3	18
Oversigt over matematik på B-niveau	19

Matematik forudsiger

Matematik	Matematik består af to hovedområder: algebra og geometri samt statistik
Algebra	Algebra (regning) forudsiger optælling, enten slut- eller enkelt-tallene.
Opdeler og genforener tal	Geometri (jordmåling) opmåler plane figurer eller rumlige former.
Geometri	Statistik (tælling) beskriver talmængders midte og spredning.
Opmåler jord-former	
Statistik	
Reducerer mange tal til to	

Algebra betyder genforening på arabisk. Algebra kan oversættes til regning. Algebra giver svaret på spørgsmålene: Hvordan forenes enkelt-tal til en total? Hvordan opdeles en total i enkelt-tal?

Geometri betyder jordmåling på græsk. Algebra og geometri opstod som svar på de to grundlæggende spørgsmål: Hvordan deler vi jorden og det den producerer?

Oprindeligt brødfødte mennesker sig som andre dyr, som jægere og samlere.

Det første kulturskift sker med indførelse af agerbrugskultur i varme floddale, hvor alt kunne produceres, specielt peber og silke. Højlandsfolket havde ingen varer at bytte med, kun bjergenes ædelmetaller, især sølv.

Sølvminerne uden for Athen finansierede den græske kultur og det græske demokrati. Sølvminerne i Spanien finansierede det romerske imperium, som brød sammen, da minerne erobredes først af vandaler siden arabere.

Sølvets forsvinden hensætter Europa i 'mørk' middelalder. Indtil der findes en sølv-dal i Harzens bjerge (dollar = thaler). Handelsvejene genopstår og finansierer italiensk renaissance og tyske fyrstendømmer. Italiens rigdom udlånes gennem banker, hvilket fører til rentesregning.

Handelen formidles igen af arabere, som udvikler den græske geometri til trigonometri, indfører en ny regnekunst, algebra. Og erstatter romertal med arabertal, som kan udganges:

$$XXVII * LXIV = 27 * 64 = (20+7) * (60+4) = 1200 + 80 + 420 + 28 = 1728 = MDCCXXIII.$$

Den græske geometri opstod da Pythagoras opdagede formler, som kunne bruges til at forudsige lyde og former. For at skabe vellyd skal strengens længde have bestemte tal-forhold. I retvinklede trekanter er to sider frie, men den tredje kan forudsiges af Pythagoras' læresætning: $a^2 + b^2 = c^2$. Pythagoras overfortolkede sin succes ved at hævde: Alt er tal.

I Athen blev filosofen Platon inspireret af Pythagoras til at oprette et akademi, som byggede på den tro, at alt fysisk er eksempler på metafysiske former, som f.eks. geometrien, der kunne udledes som eksempler på metafysiske aksiomer. 'Kom kun ind hvis du kender geometri' skrev Platon over akademiets indgang.

Platon fandt dog ikke flere formler. Og hans akademi blev omdannet til kirkens klostre, der senere blev omdannet til vore dages universiteter, stadig med lange gange med celler, hvor kommentatorer kommenterer hinandens kommentarer.

Den næste formel blev fundet i Italien af Galilei, som målte strækning s og tid t for et skråt fald på et skråplan og fandt at $s = \frac{1}{2} * g * t^2$. Italien gik dog fallit, fordi prisen for peber faldt til 1/3 i Lissabon, da portugiserne opdagede den anden vej til Indien rundt om Afrika, og herved kunne springe de arabiske mellemhandlere over. Spanien forsøgte at finde en tredje vej til Indien: Ved at sejle mod vest opdager de Vestindien, hvor der hverken er peber eller silke, men til gengæld rigeligt med sølv, argentum, f.eks. i sølvlandet Argentina.

Englænderne stjæler de spanske sølvflåder og forsøger at finde en fjerde vej til Indien, over havet uden landkending. Her skal man sejle efter månen, og man spurgte derfor: Hvordan bevæger månen sig?

Kirken sagde: Mellem stjernerne. Newton sagde: NEJ. Månen falder mod jorden ligesom æblet.

Hvorfor falder æblet til jorden? Kirken sagde: Det er en metafysisk vilje, som sker i himlen som på jorden. Og Herrens vilje er uberegnelig, så alt hvad du kan gøre er at tro, gå i kirke og lære at bede. Newton sagde: NEJ. Det er en fysisk vilje, som sker overalt. Men denne vilje, tyngdekraften, er beregnelig, da den kan sættes på formel. Så alt hvad du skal gøre er at vide, gå i skole og lære at regne.

Antikkens fysik sagde: Men kraft skaber bevægelse, og månen har jo ikke ramt jorden? Newton sagde: NEJ, en kraft skaber bevægelsesÆNDRING, så derfor er jeg nødt til at udvikle Δ -regning, som viser, at månen falder så skævt, at jorden er krummet væk inden den rammer, hvorfor månen udfører et evigt fald rundt om jorden.

Brahe brugte sit liv på at måle planetpositioner. Kepler fortolkede Brahes data korrekt, men kunne ikke validere sine tre love uden at opsende nye planeter. Newton kunne derimod validere sin tyngdekraft med faldende ting og penduler.

Newtons succes førte til oplysningstiden, hvor man indså, at med formler behøver man ikke mere formynderi fra de to herrer, Herremanden og Vorherre. I stedet kan oplyste mennesker opbygge et demokrati og en industrikultur baseret på formlernes evne til at forudsige naturens adfærd. Og på den varebaserede trekantshandel, der kom med englændernes opdagelsen af, at der var flere penge at tjene på bomuld end på silke, og derfor plantede bomuldsplantager i USA.

I den moderne skole findes groft sagt tre typer fag: NAT-fag som forudsiger naturen med formler, SAM-fag som bagud-siger samfundet med tabeller, og HUM-fag, som (stadig) fortolker bibliotekets tekster.

Regningsarter opsamler og opdeler

Regningsarter bruges til at forudsige totalen T. Der er 2*4 regningsarter til opsamling af/opdeling i forskellige typer tal:			a kr og n kr er totalt T kr:	$a+n = T$ $a = T - n$
<i>Opsamling af</i>	Uens	Ens	+a n gange er totalt T kr:	$a*n = T$ $a = T/n$
<i>Opdeling i</i>	Plus + Minus -	Gange * Division /	*a n gange er totalt T: +7% = *107%	$a^n = T$ $a = T^{(1/n)}$ $n = \ln T / \ln a$
Styktal Kr, kg, s			a1 kg á p1 kr/kg + a2 kg á p2 kr/kg er totalt T kr:	$\sum p^* a = T$ $a = \Delta T / p$
Pertal Kr/kg, kr/100kr, %	Integration Σ Differentiation Δ	Potens \wedge Logaritme \ln	p1*a1+p2*a2 = T:	

Algebra betyder at genforene på arabisk. Algebra kan oversættes til regning, forudsigelse. Algebra giver svaret på spørgsmålet: Hvordan forudsiger vi optællingen af enkelttal til en samlet total, eller opdelingen af en total i enkelttal?

Der er fire måder at opsamling af enkelttal: plus (+), gange (*), potens (^) og integration (Σ).

Plus + forudsiger opsamling af uens enkelttal:

2kr og 3 kr og 4 kr er totalt T kr: $T = 2+3+4$. 2: et led.

(Optælling: 1,2 3,4,5 6,7,8,9. Forudsigelse: $T = 2+3+4=9$ ☉).

Gange * forudsiger opsamling af ens enkelttal:

2kr +2kr +2kr +2kr = 5 gange 2kr = T, $5*2 = T$. 5: en faktor

(Optælling: 2, 4, 6, 8, 10. Forudsigelse: $T = 5*2 = 10$ ☉).

Potens \wedge forudsiger opsamling af ens procent-tal: 5 gange 2% er totalt T%, $1+T = 102\% \wedge 5$.

(Optælling: 100, 102, 104.04, 106.12, ..., 110.41. Forudsigelse: $T = 102\% \wedge 5 = 110.41$. 102%: grundtal, 5: eksponent)

Integration Σ eller \int bruges ved opsamling af forskellige per-tal:

2kg á 7kr/kg + 3kg á 8kr/kg er 5 kg á T kr/5kg: $T = 7*2 + 8*3$, $T = \Sigma (kr/kg)*kg$, $T = \int p^*dx$.

Omvendte regningsarter findes til alle regningsarter, og bruges til at opdele en total i enkelttal.

15-3 forudsiger svaret på spørgsmålet 3+? = 15, hvor totalen 15 opdeles i to uens led (ukendt led).

(Afprøvning: 3+2=5 nej, 3+3=6 nej, ... Forudsigelse: $? = 15-3 = 12$. Test 3+12 = 15 ☉)

$\frac{15}{3}$ forudsiger svaret på spørgsmålet 3*? = 15, hvor totalen 15 opdeles i 3 ens led (ukendt faktor).

(Afprøvning: 3*2=6 nej, 3*3=9 nej, ... Forudsigelse: $? = \frac{15}{3} = 5$. Test 3*5 = 15 ☉)

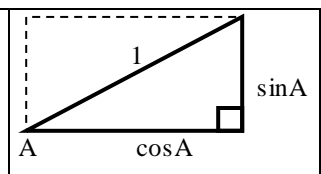
$\sqrt[3]{125}$ = $125^{\frac{1}{3}}$ forudsiger svaret på spørgsmålet ? \wedge 3 = 125, hvor totalen 125 opdeles i 3 ens faktorer (ukendt grundtal).

(Afprøvning: 2 \wedge 3=8 nej, 3 \wedge 3=27 nej, ... Forudsigelse: $? = \sqrt[3]{125} = 125^{\frac{1}{3}} = 5$. Test 5 \wedge 3 = 125 ☉) $\frac{1}{3}$: 3reciprok.

$\log_3 243$ = $\frac{\log 243}{\log 3} = \frac{\ln 243}{\ln 3}$ forudsiger svaret på spørgsmålet 3 \wedge ? = 243, hvor totalen 243 opdeles i ens 3faktorer (ukendt eksponent). Log er en forkortelse for \log_{10} . Ln er en forkortelse for \log_e , hvor e = 2.7182818

(Afprøvning: 3 \wedge 2=9 nej, 3 \wedge 3=27 nej, ... Forudsigelse: $? = \frac{\ln 243}{\ln 3} = 5$. Test 3 \wedge 5 = 243 ☉)

sin, cos og tan. En diagonal deler et rektangel i 2 ens retvinklede trekanter. Lad diagonalen have længden 1. sinA forudsiger længden af siden over for A (højden), og cosA forudsiger siden hos A (bredden). tanA forudsiger længden af væggen hvis gulvet er 1. Omvendt forudsiger sin-1A vinklen over for højden. cos-1A forudsiger vinklen hos bredden, og tan-1A forudsiger vinklen over for højden hvis gulvet er 1.



Opgaver. Besvar spørgsmålene ved afprøvning, forudsigelse og test (løs ligningerne)

- 4+? = 20, 4*? = 20, 4 \wedge ? = 20, ? \wedge 4 = 20
- 5+? = 40, 5*? = 40, 5 \wedge ? = 40, ? \wedge 5 = 40
- 6+? = 80, 6*? = 80, 6 \wedge ? = 80, ? \wedge 6 = 80
- Fremstil selv nye ligninger med 'randMat(1,2)'

- Indtegn på millimeterpapir en kvart cirkel med radius 10 cm. Indtegn forskellige retvinklede trekanter. Forudsig og test længden af væg og gulv. Forudsig og test vinklerne.

Formler, ligninger og kurver

En formel består af et regnestykke og det tal der udregnes. En ligning er en formel med 1 ubekendt. En ligning løses. En funktion er en formel med 2 ubekendte. En funktion kan tabellægges og graftegnes. En ligning består af et start-tal, en beregning og et slut-tal. Enhver beregning kan vendes om så slut-tallet tilbage-regnes til start-tallet ved at udføre den omvendte beregning.	?+3 = 15	?*3 = 15	?^3 = 125	3^? = 243
	$x+3 = 15$	$x*3 = 15$	$x^3 = 125$	$3^x = 243$
	$x = 15 - 3$	$x = \frac{15}{3}$	$x = 125^{\frac{1}{3}}$	$x = \frac{\ln 243}{\ln 3}$
	$+ \leftrightarrow -$	$* \leftrightarrow /$	eksp \leftrightarrow rod	gr.tal \leftrightarrow ln
	Ligningsløsning: Tal overflyttes med omvendt regnetegn Bemærk ombytning: $2+3 = 3+2$, $2*3 = 3*2$, $2^3 \neq 3^2$			

En ligning består af et start-tal, en beregning og et slut-tal, evt. i modsat rækkefølge: $a+b = T$, $T = a+b$.

$x+3 = 15$	Spørgsmål: Hvilket tal skal plusses med 3 for at give 15?
$x = 15-3$	Forudsigelse: $15-3$ er det tal, som plusset med 3 giver 15. Test: $(15-3)+3 = 15$
Regel	Plus-tal overflyttes som minus-tal, og omvendt

$x*3 = 15$	Spørgsmål: Hvilket tal skal ganges med 3 for at give 15?
$x = \frac{15}{3}$	Forudsigelse: $\frac{15}{3}$ er det tal, som ganget med 3 giver 15. Test: $\frac{15}{3} * 3 = 15$
Regel	Gange-tal overflyttes som divisions-tal, og omvendt

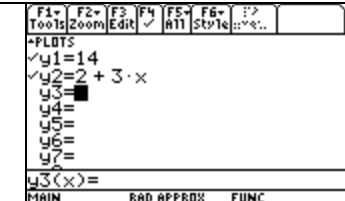
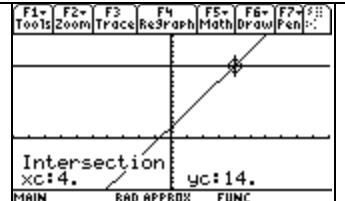
$x^3 = 125$	Spørgsmål: Hvilket tal skal opløftes i 3de for at giver 15?
$x = 125^{\frac{1}{3}}$	Forudsigelse: $125^{\frac{1}{3}}$ er det tal, som opløftet i 3de giver 15. Test: $(125^{\frac{1}{3}})^3 = 125$
Regel	Eksponent overflyttes som reciprokke eksponenter og omvendt

$3^x = 243$	Spørgsmål: Hvad er det antal gange, der skal ganges med 3 for at få 243?
$x = \frac{\ln 243}{\ln 3}$	Forudsigelse: $\frac{\ln 243}{\ln 3}$ er det antal gange, der skal ganges med 3 for at få 243. Test: $3^{\frac{\ln 243}{\ln 3}} = 243$
Regel	Grund-tal overflyttes som logaritme, og omvendt

Et dobbelt regnestykke indeholdende flere regnestykker, reduceres til et enkelt regnestykke med en skjult parentes om det stærkeste regnestykke (prioritet: $()$, $^$, $*$, $+$): $T = 2+3*4 = 2+(3*4)$, $T = 2+3^4 = 2+(3^4)$, $T = 2*3^4 = 2*(3^4)$

Formel-skema bruges til dokumentation af ligningsløsning

<i>Her skrives det ukendte tal</i>	$c = ?$	$T = a+b*c$	<i>Her skrives formelen</i>
<i>Her skrives de kendte tal</i>	$a = 2$	$14 = 2+(3*c)$	<i>Fra dobbelt til enkelt regnestykke med skjult parentes</i>
	$b = 3$	$14-2 = 3*c$	<i>+ over flyttes som det modsatte, -</i>
	$T = 14$	$\frac{(14-2)}{3} = c$	<i>* over flyttes som det modsatte, /</i>
		$4 = c$	<i>Parentes om det regnestykke der var i forvejen</i>
			<i>Løsningen beregnes</i>
<i>Her udføres test</i>	Test	V.S. = H.S.	<i>Løsningen testes fordi vi har overflyttet tal</i>
		$14 = 2+3*4$	
		$14 = 14$ ☺	

Alternativ1: 'solve(14 = 2+3*c,c)' giver 'c = 4' Alternativ2: På formelregnerens y-liste indtastes Y1 = Venstre side V.S. = 14 Y2 = Højre side H.S. = 2+3x Løsningen er da kurvernes skæringspunkt.		
---	--	---

$c = ?$	$T = a - c$	$c = ?$	$T = \frac{a}{c}$
	$T + c = a$		$T * c = a$
	$c = a - T$		$c = a/T$

Ved modsat fortegn flyttes den ubekendte først:

Opgaver

Find de ukendte tal for formelen. Opstil bagefter selv en ny tabel med randMat(1,3)	<table border="1"> <tr> <td></td> <td>T</td> <td>b</td> <td>a</td> <td>c</td> </tr> <tr> <td>1.</td> <td>$T = a+b*c$</td> <td>1.5</td> <td>12</td> <td>20</td> </tr> <tr> <td>2.</td> <td>$T = a+b/c$</td> <td>60</td> <td>12</td> <td>20</td> </tr> <tr> <td>3.</td> <td>$T = a*b^c$</td> <td>60</td> <td>1.5</td> <td>20</td> </tr> <tr> <td>4.</td> <td>$T = a+b^c$</td> <td>60</td> <td>1.5</td> <td>12</td> </tr> </table>		T	b	a	c	1.	$T = a+b*c$	1.5	12	20	2.	$T = a+b/c$	60	12	20	3.	$T = a*b^c$	60	1.5	20	4.	$T = a+b^c$	60	1.5	12
	T	b	a	c																						
1.	$T = a+b*c$	1.5	12	20																						
2.	$T = a+b/c$	60	12	20																						
3.	$T = a*b^c$	60	1.5	20																						
4.	$T = a+b^c$	60	1.5	12																						

Konstant vækst: Lineær, eksponentiel, potentiel og opsparing

Lineær (konstant hældning a): +1 dag, +5 kr	$y = b + a \cdot x$, x: +1, y: +a	++ vækst
Eksponentiel (konstant rente r%): +1 dag, +5 %	$y = b \cdot a^x = b \cdot (1+r)^x$, x: +1, y: +r%	+* vækst
Potentens (konstant elasticitet a): +1 %, +5 %	$y = b \cdot x^a$, x: +1%, y: +a%	** vækst
Opsparing (konstant rente&indskud): +1 dag, +5 % & +5kr	$y = a/r \cdot SR$, x: +1, y: +r% & y: +a	+&* vækst

Vækstmål: Tilvækst- $y = \Delta y = y_2 - y_1$. Indeks- $y = I_y = I_2/I_1$. Rente $r = \Delta y/y = I_y - 1$. Samlet rente $R: 1 + R = (1+r)^n$.

x	y		Tilvækst Δ	Indeks I	Gns. tilvækst	$a^2 = 6$	$a = 6/2 = 3$
5	11	y	17-11 = 6	17/11 = 1.55	Gns. rente	$(1+r)^2 = 1.55$	$r = 1.55^{(1/2)} - 1 = 0.25 = 25\%$
7	17	x	7-5 = 2	7/5 = 1.4	Gns. elasticitet	$1.4^a = 1.55$	$a = \ln 1.55 / \ln 1.4 = 1.3$

Lineær vækst forekommer ved køb eller leje:

b kr + x dage à 5 kr/dag er totalt T kr:

$$T = b + 5 \cdot x \quad \Delta y = a \cdot \Delta x \quad y - y_0 = a \cdot (x - x_0)$$

Eksponentiel vækst forekommer ved rentetilskrivning

b kr + x dage à 5 %/dag er totalt T kr:

$$T = b \cdot (1 + 0.05)^x \quad I_y = a^{\Delta x} \quad y/y_0 = a^{(x - x_0)}$$

Potensvækst forekommer ved tekniske formler

Hvis længden x øges med 1% øges styrken T med 0.67 %:

$$T = b \cdot x^{0.67} \quad I_y = I_x^a \quad y/y_0 = (x/x_0)^a$$

Lineær	Eksponentiel	Potens
$\Delta y = a \cdot \Delta x$	$I_y = a^{\Delta x}$	$I_y = I_x^a$
$\Delta y / \Delta x = a$	$I_y^{(1/\Delta x)} = a$	$\ln(I_y) / \ln(I_x) = a$
$6 = a \cdot 2$	$1.6 = a^2$	$1.6 = 1.4^a$
$a = 6/2 = 3$	$a = 1.6^{(1/2)} = 1.27$	$a = \ln 1.6 / \ln 1.4 = 1.40$

Vækstopgaver opstilles som tabeller:

Tabel	Lineær vækst	Eksponentiel vækst	Potentiel vækst										
<table border="1"> <tr><td>x</td><td>y</td></tr> <tr><td>2</td><td>5</td></tr> <tr><td>6</td><td>7</td></tr> <tr><td>9</td><td>?</td></tr> <tr><td>?</td><td>12</td></tr> </table>	x	y	2	5	6	7	9	?	?	12	$y - y_0 = a \cdot (x - x_0)$ $7 - 5 = a \cdot (6 - 2)$ $a = \frac{2}{4} = 0.5$ $y - 5 = 0.5 \cdot (x - 2)$ $y = 0.5 \cdot x + 4$ $y = 0.5 \cdot 9 + 4 = \mathbf{8.5}$ $12 = 0.5 \cdot x + 4$ $x = \frac{12 - 4}{0.5} = \mathbf{16}$	$y/y_0 = a^{(x - x_0)}$ $7/5 = a^{(6 - 2)}$ $a = \left(\frac{7}{5}\right)^{\frac{1}{4}} = 1.088$ $y/5 = 1.088^{(x - 2)}$ $y = 4.226 \cdot 1.088^x$ $y = 4.226 \cdot 1.088^9 = \mathbf{9.009}$ $12 = 4.226 \cdot 1.088^x$ $x = \frac{\ln(12/4.226)}{\ln 1.088} = \mathbf{12.408}$	$y/y_0 = (x/x_0)^a$ $7/5 = (6/2)^a$ $a = \ln\left(\frac{7}{5}\right) / \ln(6/2) = 0.306$ $y/5 = (x/2)^{0.306}$ $y = 4.044 \cdot x^{0.306}$ $y = 4.044 \cdot 9^{0.306} = \mathbf{7.926}$ $12 = 4.044 \cdot x^{0.306}$ $x = \left(\frac{12}{4.044}\right)^{\frac{1}{0.306}} = \mathbf{34.870}$
	x	y											
2	5												
6	7												
9	?												
?	12												

a- og b-tallene kan også findes ved regression. Beregningerne kan også udføres i et formel-skema. Resultatet kan også findes ved indtegnning af hhv. lineær, eksponentiel og potentiel vækst på tekniske papir:

++ papir (millimeter-papir), +* papir (enkeltlogaritmisk-papir) og **papir (dobbellogaritmisk-papir).

Ved eksponentiel vækst er fordoblingstiden (halveringstiden) konstant: $a^T = 2$ giver $T = \frac{\ln(2)}{\ln(1+r)}$.

Opsparings vækst. På konto 1 indsættes 1 kr, på konto 2 alle rentebeløb fra konto 1 + renter af konto 2. Konto 2 udføres da opsparingsvækst da den modtager +r% + rkr. Slutopsparing er den samlede rente SR. Dvs. et indskud på r kr opsparer SR kr. Et indskud på a kr vil da opspare a/r gange så meget. Efter x terminer er der da opsparert $y = a/r \cdot SR$, hvor samlet rente SR: $1 + SR = (1+r)^x$. Opsparingsvækst er en kombination af lineær og eksponentiel vækst.

En opsparing kan f.eks. bruges til at afbetale et lån G. Et låns løbetid x er da bestemt af formlen $G \cdot (1+r)^x = a/r \cdot SR$.

Opgaver. Forudsig svaret, og test svaret både med grafer på formelregneren og på teknisk papir

1. Hvad er billigst: 40kr+3kr/dag eller 60kr+2kr/dag?	13. Lån 10000. Ydelse = 500. Rente ?. Løbetid = 240.
2. Hvad er billigst: 60kr+4kr/dag eller 90kr+3kr/dag?	14. Lån 10000. Ydelse = ?. Rente 3%. Løbetid = 360.
3. Hvem er rigest: 120kr-4kr/dag eller 80kr-2kr/dag?	15. Lån ?. Ydelse = 700. Rente 3%. Løbetid = 120.
4. Hvem er rigest: 160kr-5kr/dag eller 120kr-3kr/dag?	16. 5 år á 9% gir ?%. 8 år á ?% gir 80%. ? år á 9% gir 90%.
5. Hvem er rigest: 120kr+4%/dag eller 180kr+2%/dag?	17. 3%/år fordobles på ? år. ?%/år fordobles på 40 år.
6. Hvem er rigest: 120kr-4%/dag eller 80kr-2%/dag?	18. -5%/år halveres på ? år. ?%/år halveres på 50 år.
7. Hvor er mest: 120kg+10 kg/dag eller 150kg +3%/dag?	19. Besvares med alle 3 vækstformer:
8. Hvor er mest: 80kg -2kg /dag eller 100kg -5%/dag?	20. Løs tabelopgaverne med alle 3 vækstformer
9. 7. og 8. Kaldes Malthus' problem. Hvem var Malthus?	
10. Hvad bøjer mest: 20m+3%/ eller 30m+2%/	
11. Hvad bøjer mest: 20m+0.3%/ eller 30m+0.2%/	
12. Lån 10000. Ydelse 500. Rente 3%. Løbetid = ?	

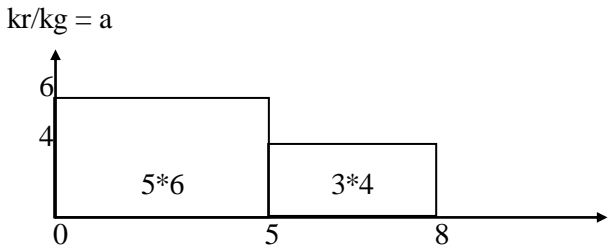
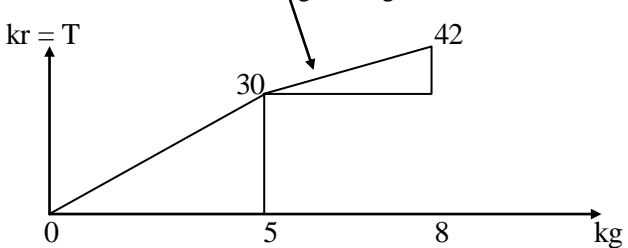
Per-tal

Pertal, stigning på total-kurven, findes ved differentiation Totaler, areal under pertals-kurven, findes ved integration	$a = 6 \frac{\text{kr}}{\text{kg}} = \frac{y_2 - y_1}{x_2 - x_1} = \frac{\Delta y}{\Delta x}$ $T = 4 \text{ kr/kg} * 3 \text{ kg} + 6 \text{ kr/kg} * 5 \text{ kg} = \sum \text{kr/kg} * \text{kg} = \int a * dx$
---	---

Eksempel. Ved et indkøb er der rabat: De første 5 kg kan fås for 6kr/kg, og de næste 3 kg kan fås for 4 kr/kg.

$T_1 = 5 \text{ kg} \text{ á } 6 \text{ kr/kg} = 5 * 6 \text{ kr} = 30 \text{ kr}$ $T_2 = 3 \text{ kg} \text{ á } 4 \text{ kr/kg} = 3 * 4 \text{ kr} = 12 \text{ kr}$ $T = 8 \text{ kg} \text{ á } ? \text{ kr/kg} = 42 \text{ kr}, ? = \frac{42 \text{ kr}}{8 \text{ kg}} = 5.25 \frac{\text{kr}}{\text{kg}}$	$T_1 = 5 \text{ kg} \text{ á } 3/5 = 5 * 3/5 \text{ kg} = 3 \text{ kg}$ $T_2 = 3 \text{ kg} \text{ á } 2/3 = 3 * 2/3 \text{ kg} = 2 \text{ kg}$ $T = 8 \text{ kg} \text{ á } ? = 5 \text{ kg}, ? = \frac{5}{8}$	<i>Forene brøker</i> <div style="border: 1px solid black; padding: 5px; display: inline-block;"> $\text{dvs. } \frac{3}{5} + \frac{2}{3} = \frac{5}{8}$ </div>
--	---	--

Pertals-kurve hvoraf Totalen kan findes ved integration. **Total-kurve** hvoraf pertallet kan findes ved differentiation.

 <p>kr/kg = a</p> <p>$y_1(x) = \text{when}(x < 0, 0, \text{when}(x < 5, 6, \text{when}(x < 8, 4, 0)))$</p>	 <p>Stigning = a = $\frac{42 - 30}{8 - 5} = \frac{12 \text{ kr}}{3 \text{ kg}} = 4 \frac{\text{kr}}{\text{kg}} = \frac{T_2 - T_1}{x_2 - x_1} = \frac{\Delta T}{\Delta x}$</p> <p>$y_2(x) = \text{when}(x < 0, 0, \text{when}(x < 5, 6 * x, \text{when}(x < 8, 30 + 4 * (x - 5), 0)))$</p>
Del-totalerne er del-arealer under pertals kurven. Samlet total er samlet areal under pertals kurven .	Del-totalerne er del-tilvækster på Totalkurven. Per-tallet er stigningen (hældningen) på totalkurven.
Totalen kan forudsiges ved integralregning. Totalen, arealet under kurven y = 6 fra 2 til 5 er: $\int_0^5 (6, x, 0, 5) \text{ giver } \int_0^5 6 dx = 30'$ Arealet under kurven y = 6 fra 2 til t: $\int_2^t (6, x, 2, t) \text{ giver } \int_2^t 6 dx = 6 * (t - 2)'$ Test ved at differentiere $d(6 * (t - 2), t) \text{ giver } \frac{d}{dt} (6 * (t - 2)) = 6'$	Pertallet kan forudsiges ved differentialregning Pertal, stigning, hældning på kurven y = 6 * x + b er: $d(6 * x + b, x) \text{ giver } \frac{d}{dt} (6 * x + b) = 6'$ Vi tester ved at integrere: $\int (6, x) \text{ giver } \int (6 dx) = 6x' \odot$ Konstanten b kan ikke testes. Vi bemærker at differentiere og integrere er modsatte regningsarter, der begge regner på regnestykker, hvor de andre regningsarter regner på tal.
Arealet under kurven y = 4x+3 fra 0 til x $\int (4x+3, x) \text{ giver } \int (4x+3) dx = 2x^2 + 3x$ Test ved at differentiere $d(2x^2 + 3x, x) \text{ giver } \frac{d}{dx} (2x^2 + 3x) = 4x + 3'$	Pertal, stigning, hældning på kurven y = 6 * x^2 + 5x + 7 er: $d(6 * x^2 + 5x + 7, x) \text{ giver } \frac{d}{dx} (6 * x^2 + 5x + 7) = 12x + 5'$ Vi tester ved at integrere: $\int (12x + 5, x) \text{ giver } \int (12x + 5) dx = 6 * x^2 + 5x' \odot$ Konstanten 7 kan ikke testes.
Areal-beregning kan både give et areal-tal og en areal-formel	Pertals-beregning giver en pertals-formel, pertallet kan så beregnes af formelen $d(6 * x + b, x) _{x=5}$, der giver 6

Rabatordning kan aftage jævnt i stedet for stykkevis og dermed blive en polynom-kurve i stedet for en trappekurve. Forudsigelser af arealer og stigninger kan testes grafisk, se afsnit om polynom-kurver.

Opgaver

Gentag beregningerne ovenfor og test grafisk: 1. Rabat: 10kg for 7kr/kg, 8kg for 5kr/kg, 5kg for 3kr/kg 2. Rabat: kr/kg = y = 20 - 0.8 * x 3. Rabat: kr/kg = y = 20 + 0.8 * x - 0.05 * x^2 4. Rabat: kr/kg = y = 20 - 2 * x + 0.2 * x^2 - 0.005 * x^3 5. Som 1-4 blot med totalen i stedet for rabatten 6. Find en formel for d/dx af x^2, x^3, x^-1, x^1/2, x^n 7. Find en formel for \int af x^2, x^3, x^-1, x^1/2, x^n	Gentag beregningerne ovenfor og test grafisk: 8. Fart: 10s á 9m/s, 7s á 6 m/s, 6s á 4 m/s 9. Fart: m/s = y = 30 - 0.6 * x 10. Fart: m/s = y = 40 + 0.4 * x - 0.04 * x^2 11. Fart: m/s = y = 50 - 4 * x + 0.4 * x^2 - 0.008 * x^3 12. Som 8-11 blot med totalen i stedet for rabatten 13. Newtons problem: 5s á 4m/s voksende til 7m/s er ?m 14. Vis at $\int (y_1(x), x) = y_2(x)$, og at $d(y_2(x), x) = y_1(x)$
--	---

Variabel vækst, calculus: Polynomier

1. grads polynomium fastlægger højde	$y = 5$
2. grads polynomium fastlægger højde + stigning	$y = 5 + 2 \cdot x$
3. grads polynomium højde + stigning + krumning	$y = 5 + 2 \cdot x + 0.3 \cdot x^2$
4. grads polynomium fastlægger højde + stigning + krumning + modkrumning	$y = 5 + 2 \cdot x + 0.7 \cdot x^2 - 0.2 \cdot x^3$

Krumme polynom-kurver med højere grad end 1 har en række interessante punkter:

Vendepunkter, enten top-punkt (maximum) eller bund-punkt (minimum).

Skæringspunkter med x-akse (nulpunkter), med y-akse (start-punkt), og med andre kurver.

Skæringspunkter med vandrette linier (ligningsløsning), og med lodrette linier (værdier).

Krumningsskift, hvor krumningen skifter fortegn, og hvor der derfor findes en vendetangent.

Tangent-punkt. En tangent er en ret linie, der er praktisk taget sammenfaldende med kurven omkring røringspunktet.

En tangent viser hvordan kurven vil se ud hvis stigningen i punktet forbliver uændret.

Hvis kurven er en pertals-kurve aflæses totalen som arealet under kurven, dvs. ved integration

Hvis kurven er en total-kurve, aflæses pertallet som stigningen på kurven, dvs. ved differentiation.

Krumningen fås ved at differentiere to gange. Ved positiv krumning krummes opad, ved negativ nedad.

Eksempel: $y = 0.5x^3 - 3x^2 + 2x + 3$			$0.37 \quad 3.63 \quad x$ $y = 0.5x^3 - 3x^2 + 2x + 3$ $y' = 1.5x^2 - 6x + 2$ $y' = 0$ for $x = 0.37$ og 3.63 Monotoni: Y vokser: $x < 0.37$, $x > 3.63$ Y aftager: $0.37 < x < 3.63$
Skæringspunkt	Aflæst graf.	Forudsagt ved formel	
Med y-akse	$y=3$	$y1(x) x=0$	
Med x-akse	$x=-0.694$ $x=1.748$ $x=4.946$	$Solve(y1(x)=0,x)$	
Med $y=2$	$x=-0.329$ $x=1.181$ $x=5.147$	$Solve(y1(x)=2,x)$	
Med $x=3$	$y = -4.5$	$y1(x) x=3$	
Med tangent 'Intersection'	$(x,y)=(1,2.5)$ $(x,y)=(4,-5)$	$Solve(y1(x)=y2(x),x)$	
Toppunkt 'Maximum'	$x=0.367$ $y=3.355$	$Solve(d(y1(x),x)=0,x)$ $d(d(y1(x),x),x) x=0.3$ er <0 $f_{max}(y1(x),x) 0 < x$ and $x < 5$	
Bundpunkt 'Minimum'	$x=3.633$ $y=-5.355$	$Solve(d(y1(x),x)=0,x)$ $d(d(y1(x),x),x) x=3.6$ er >0 $f_{min}(y1(x),x) 0 < x$ and $x < 5$	
Krumningsskift 'Inflection'	$x=2.0$ $y=-1.0$	$solve(d(d(y1(x),x),x)=0,x)$	
Stigning i $x=3$	-4	$d(y1(x),x) x=3$	
Areal fra 2 til 5	-2	$\int(y1(x),x,2,5)$	
Tangent i $x=1$	$y=-2.5x+5$	$d(y1(x),x) x=1 \rightarrow 2.5$ $y1(x) x=1 \rightarrow 2.5$ $solve(a = \frac{t1-t}{x1-x}, t) x1=1$ and $t1=2.5$ and $a=-2.5$	
			$y1(x) = 0.5x^3 - 3x^2 + 2x + 3$ $y2(x) = 2$, $y3(x) = -2.5x + 5$
			$y1(x) = 4 - 1x$ $y2(x) = d(y1(x),x) =$ pertal hvis $y1$ er en Total-kurve $y3(x) = \int(y1(x),x,0,x) =$ Total for $y1$ pertals-kurve
			$y1(x) = 4 - 2x$ $y2(x) = d(y1(x),x) =$ pertal hvis $y1$ er en Total-kurve $y3(x) = \int(y1(x),x,0,x) =$ Total for $y1$ pertals-kurve

Opgaver

1. Gentag ovenstående aflæsninger og forudsigelser med polynomiet $y = 0.7x^3 - 4x^2 + 3x + 4$.	7. Dimensioner billigste kasse uden låg el. bund indeh. 1 l.
2. Gentag ovenstående aflæsninger og forudsigelser med polynomiet $y = -0.4x^3 + 2x^2 - 0.5x - 3$.	8. Dimensioner billigste rør uden låg el. bund indeh. 1 l.
3. Fremstil selv polynom-formler ved brug af randPol(x,3). Eller ved brug af tabeller og regression.	9. Dimensioner billigste kasse indeholdende 1 liter, hvor lågets materiale er dobbelt så dyrt som resten.
4. Vis forskellige måder at vokse fra (0,0) til (1,1) ved hjælp af polynomier af 1. grad, 2. grad og 3. grad.	10. Som 9, nu blot rør.
5. Dimensioner billigste kasse uden låg indeholdende 1 liter	11. $y1$ er et polynomium af grad 0. Hvis $y1$ er en Totalkurve, hvordan ser pertals-kurven da ud? Hvis $y1$ er en pertals-kurve, hvordan ser Totalkurven da ud?
6. Dimensioner billigste rør uden låg indeholdende 1 liter	12. Som 5 men med polynomium af grad 1.
	13. Som 5 men med polynomium af grad 2.
	14. Som 5 men med polynomium af grad 3.

Tal, tabeller og formel-regression

$2357 = 2 \cdot 10^3 + 3 \cdot 10^2 + 5 \cdot 10 + 7$ $34.67 = 3 \cdot 10 + 4 + 6 \cdot 10^{-1} + 7 \cdot 10^{-2}$ $345.72 = 3.457 \cdot 10^2 = 3457.2 \cdot 10^{-1}$	Et 4-cifret tal er et polynomium bestående af 4 optællinger af styk, bundter, bundt-bundter, bundt-bundt-bundter En vektor er en tal-liste. En matrice er en vektor-liste
---	--

Et tal angiver resultatet af en optælling. Ved optælling tælles enkeltstyk, bundter, bundter af bundter osv.

$$T = 235 = 2 \text{ bundt-bundter} + 3 \text{ bundter} + 5 \text{ enkeltstyk} = 2 \cdot 10 \cdot 10 + 3 \cdot 10 + 5 = 2 \cdot 10^2 + 3 \cdot 10^1 + 5 \cdot 10^0$$

$$T = 34.67 = 3 \text{ bundter} + 4 \text{ enkeltstyk} + 6 \text{ opdelt} + 7 \text{ opdelt} = 3 \cdot 10^1 + 4 \cdot 10^0 + 6 \cdot 10^{-1} + 7 \cdot 10^{-2}$$

Et 10bundt kan opdeles i 10 enkeltdele. Ligeledes kan en enkelt del betragtes som et 10bundt af 10 opdelt, hvor hver opdelt igen kan betragtes som et 10bundt af 10 opdelt osv.

Bemærk at $10^1 = EE1 = 10$, $10^0 = 1$, $10^{-1} = \frac{1}{10^1} = 0.1$, $10^{-2} = \frac{1}{10^2} = 0.01$ osv. (test på formelregner)

Andre bundtstørrelser. 6: $T = 235 = 2 \cdot 6^2 + 3 \cdot 6 + 5 = 95 = 9 \cdot 10 + 5$. 2: $1011 = 1 \cdot 2^3 + 0 \cdot 2^2 + 1 \cdot 2 + 1 = 11$

Nogle tal kan betragtes som regnestykker: $-5 = 0-5$, $\frac{3}{7} = 3/7$, $7\% = \frac{7}{100} = 0.07$

Specielle tal.

$\pi = 3.1416... = n \cdot \sin(180/n)$ for n stor: Overgrænse (grænseværdi) for omkredsen af et symmetrisk hegn med n kanter som er indskrevet i en cirkel med radius 1.

$e = 2.7182818 = (1+1/n)^n$ for n stor: Overgrænse (grænseværdi) for rentes rente udbyttet. (100% pr år kan maksimalt blive til 171.82% ved at øge antallet af tilskrivninger).

Fra tabel til formel

En formel kan bruges til at opstille en tabel. Omvendt en formel også tilpasses til en tabel ved regression.

1punkts tabel fastlægger højde $y = 3$

2punkts tabel fastlægger højde + stigning $y = 3 + 2 \cdot x$

3punkts tabel fastlægger højde + stigning + krumning $y = 3 + 2 \cdot x + 0.3 \cdot x^2$

4punkts tabel fastlægger højde + stigning + krumning + modkrumning $y = 3 + 2 \cdot x + 0.7 \cdot x^2 - 0.2 \cdot x^3$

En tabel oprettes under matrixeditor som data-tabel med navnet 'tabel'. Formlen opstilles ved regression under F5 og lagres under y1(x).

1punkts tabel	<table border="1"> <tr><th>x</th><th>y</th></tr> <tr><td>0</td><td>3</td></tr> </table>	x	y	0	3	$y = 3$						
x	y											
0	3											
2punkts tabel	<table border="1"> <tr><th>x</th><th>y</th></tr> <tr><td>0</td><td>3</td></tr> <tr><td>4</td><td>5</td></tr> </table>	x	y	0	3	4		5	$y = 0.5 \cdot x + 3$ fundet ved LinReg			
x	y											
0	3											
4	5											
3punkts tabel	<table border="1"> <tr><th>x</th><th>y</th></tr> <tr><td>0</td><td>3</td></tr> <tr><td>4</td><td>5</td></tr> <tr><td>8</td><td>4</td></tr> </table>	x	y	0	3	4	5	8	4	$y = -0.094 \cdot x^2 + 0.875 \cdot x + 3$ fundet ved QuadReg Find vendepunkt, tangent, areal og stigning Forudsig svaret og test grafisk		
x	y											
0	3											
4	5											
8	4											
4punkts tabel	<table border="1"> <tr><th>x</th><th>y</th></tr> <tr><td>0</td><td>3</td></tr> <tr><td>4</td><td>5</td></tr> <tr><td>8</td><td>4</td></tr> <tr><td>10</td><td>6</td></tr> </table>	x	y	0	3	4	5	8	4	10	6	$y = 0.030 \cdot x^3 - 0.456 \cdot x^2 + 1.842 \cdot x + 3$ fundet ved CubicReg Find vendepunkter, tangent, areal og stigning Forudsig svaret og test grafisk
x	y											
0	3											
4	5											
8	4											
10	6											

Opgaver

1. Omskriv tallene 2, 34, 567 og 24689 til polynomier. 2. Omskriv tallene 2.3, 34.67 og 254.689 til polynomier. 3. 5bundteren optalte 32. Hvad optalte 3bunteren? 7budteren? Ti-bundteren? 4. 2bundteren optalte 11011. Hvad optalte 3bundteren? 5bundteren? Ti-bundteren? Tyve-bundteren?	5. Hvorfor hedder syvti halvfjers? 6. Find et 3. gradspolynomium med 'randPol(x,3). Opstil en 4punkts tabel. Lav kubisk regression. 7. Som 5 med et 2. gradspolynomium. 8. Som 5 med et 1. gradspolynomium. 9. Som 5 med et 4. gradspolynomium. 10. Opstil polynomier af 0., 1., 2. og 3. grad ud fra den venstre tabel:	<table border="1"> <tr><th>x</th><th>y</th></tr> <tr><td>2</td><td>8</td></tr> <tr><td>5</td><td>6</td></tr> <tr><td>7</td><td>9</td></tr> <tr><td>12</td><td>5</td></tr> </table>	x	y	2	8	5	6	7	9	12	5	<table border="1"> <tr><th>x</th><th>y</th></tr> <tr><td>2</td><td>4</td></tr> <tr><td>5</td><td>6</td></tr> <tr><td>8</td><td>7</td></tr> <tr><td>12</td><td>9</td></tr> </table>	x	y	2	4	5	6	8	7	12	9
x	y																						
2	8																						
5	6																						
7	9																						
12	5																						
x	y																						
2	4																						
5	6																						
8	7																						
12	9																						
		11. Opstil polynomier af 0., 1., 2. og 3. grad ud fra den højre tabel. 12. Opstil to polynomier af 1.grad ud fra den højre tabel.																					

Geometri

Ethvert jordstykke kan opdeles i trekanter Enhver trekant kan opdeles i 2 retvinklede trekanter	To Græske formler: $A+B+C = 180$ $a^2 + b^2 = c^2$ Tre Arabiske formler: $\sin A = \frac{a}{c}$ $\cos A = \frac{b}{c}$ $\tan A = \frac{a}{b}$
--	--

For at kunne tegne en trekant skal man kende 3 stykker (vinkler eller sider), og de sidste 3 stykker kan så forudsiges ved hjælp af 3 formler. Grækerne udviklede kun to formler, hvorfor trekantregning først kunne begynde da araberne kom med yderligere tre formler.

	<p>Græske formler: $A+B+C = 180$ og $a^2 + b^2 = c^2$ (Pythagoras) Arabiske formler: $\sin A = \frac{a}{c}$ (højde i % af diagonal) $\cos A = \frac{b}{c}$ (bredde i % af diagonal) $\tan A = \frac{a}{b}$ (højde i % af bredde)</p>
--	---

For at kunne regne på en ikke retvinklet trekant, opdeles den i to retvinklede trekanter ved hjælp af en højde h:

<p>Hvis C er 90 gælder $\cos A = \frac{x}{b} = \frac{b}{c}$ og $\cos B = \frac{c-x}{a} = \frac{a}{c}$ dvs. $b^2 = xc$ og $a^2 = c^2 - xc$ dvs. $a^2 + b^2 = c^2$ (Pythagoras)</p>	<p>Sinus-relationer: Af venstre og højre trekant fås: $\sin A = \frac{h}{b}$ og $\sin B = \frac{h}{a}$ $b \cdot \sin A = h$ og $a \cdot \sin B = h$ $b \cdot \sin A = a \cdot \sin B$ eller ved overflytning $\frac{a}{\sin A} = \frac{b}{\sin B} = \frac{c}{\sin C}$ Sidste del fra anden højde.</p>	<p>Cosinus-relationer: $b^2 = h^2 + x^2$, dvs. $h^2 = b^2 - x^2$ $a^2 = h^2 + (c-x)^2$, dvs. $h^2 = a^2 - (c-x)^2$ solve($a^2 - (c-x)^2 = b^2 - x^2$, x) giver $x = \frac{-a^2 + b^2 + c^2}{2 \cdot c}$ eller $2 \cdot c \cdot x = -a^2 + b^2 + c^2$ $\cos A = \frac{x}{b}$, dvs. $b \cdot \cos A = x$, som indsat giver $a^2 = b^2 + c^2 - 2 \cdot b \cdot c \cdot \cos A$. Tilsvarende fås $b^2 = a^2 + c^2 - 2 \cdot a \cdot c \cdot \cos B$ og $c^2 = b^2 + a^2 - 2 \cdot b \cdot a \cdot \cos C$</p>
---	---	--

De fire trekantstilfælde:

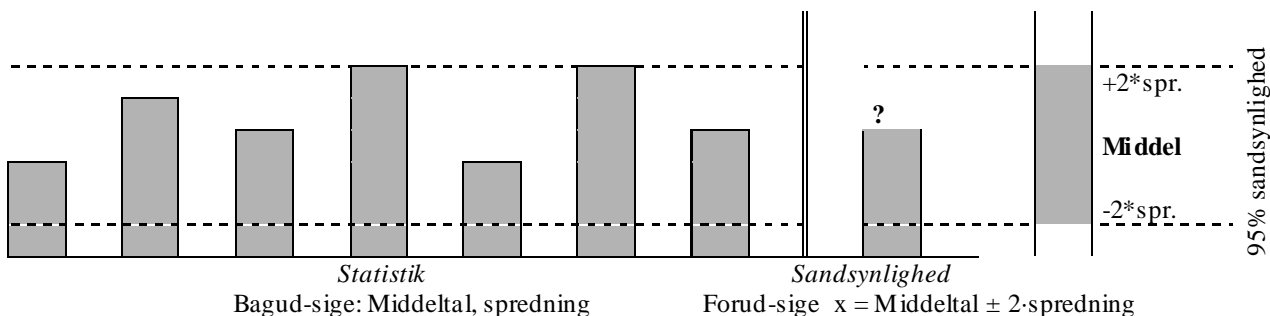
<p>VSV: Vinkel Side Vinkel $A=32$ $b=8$ $C=71$</p>	Solve($32+B+71=180, B$) $B = 77$	Solve($\frac{a}{\sin 32} = \frac{8}{\sin 77}, a$) $a = 4.351$	Solve($\frac{c}{\sin 71} = \frac{8}{\sin 77}, c$) $c = 7.763$
<p>SVS: Side Vinkel Side $c=7$ $A=41$ $b=9$</p>	Solve($a^2 = 9^2 + 7^2 - 2 \cdot 9 \cdot 7 \cdot \cos 41, a$) $a = 5.908$	Solve($9^2 = 5.9^2 + 7^2 - 2 \cdot 5.9 \cdot 7 \cdot \cos B, B$) $0 < B$ and $B < 180$ $B = 88.0$	Solve($41+88+C=180, C$) $C = 51$
<p>SSS: Side Side Side $a=5$ $b=8$ $c=6$</p>	Solve($5^2 = 8^2 + 6^2 - 2 \cdot 8 \cdot 6 \cdot \cos A, A$) $0 < A$ and $A < 180$ $A = 38.6$	Solve($8^2 = 5^2 + 6^2 - 2 \cdot 5 \cdot 6 \cdot \cos B, B$) $0 < B$ and $B < 180$ $B = 92.9$	Solve($38.6+92.9+C=180, C$) $C = 48.5$
<p>VSS: Vinkel Side Side $A=28$ $b=11$ $a=9$</p>	Solve($\frac{11}{\sin B} = \frac{9}{\sin 28}, B$) $0 < B$ and $B < 180$ $B = 35.0$ og $B = 145.0$	Solve($28+35+C=180, C$) $C = 117$ Solve($28+145+C=180, C$) $C = 7$	Solve($\frac{c}{\sin 117} = \frac{9}{\sin 28}, c$) $c = 17.081$ Solve($\frac{c}{\sin 7} = \frac{9}{\sin 28}, c$) $c = 2.336$

Opgaver: Brug formel-formular og husk at teste løsningen. Brug randMat(1,3) til at frembringe 3 tal til flere opgaver.

<p>1. Beregn de tomme felter</p> <table border="1"> <thead> <tr> <th></th> <th>A</th> <th>B</th> <th>C</th> <th>a</th> <th>b</th> <th>c</th> </tr> </thead> <tbody> <tr><td>1</td><td>32</td><td>63</td><td></td><td>25</td><td></td><td></td></tr> <tr><td>2</td><td>47</td><td></td><td>69</td><td></td><td>47</td><td></td></tr> <tr><td>3</td><td>36</td><td></td><td></td><td>12</td><td>15</td><td></td></tr> <tr><td>4</td><td></td><td>67</td><td></td><td>14</td><td></td><td>23</td></tr> <tr><td>5</td><td></td><td></td><td>34</td><td>18</td><td></td><td>25</td></tr> <tr><td>6</td><td></td><td></td><td></td><td>12</td><td>15</td><td>19</td></tr> <tr><td>7</td><td>37</td><td></td><td>90</td><td></td><td>12</td><td></td></tr> <tr><td>8</td><td></td><td></td><td>90</td><td>14</td><td>16</td><td></td></tr> </tbody> </table>		A	B	C	a	b	c	1	32	63		25			2	47		69		47		3	36			12	15		4		67		14		23	5			34	18		25	6				12	15	19	7	37		90		12		8			90	14	16		<p>2. Hvordan flyttes en ting hurtigst fra et punkt i et område til et punkt i et andet område, når vi bevæger sig med forskellig hastighed i de to områder? 3. Bestem højden af en høj ting (en flagstang) på to forskellige måder: Den lette, hvor vi kan komme helt hen til tingen, og den svære, hvor vi ikke kan. 4. Tip en plade 30 grader og indtegn en vej op, der højst må stige 20 grader (en 'hårnåle' -vej). Gentag øvelsen med andre gradtal. Hvor meget øges tyngdens træk i en bil, når vejens stigning øges med 10 grader?</p>
	A	B	C	a	b	c																																																										
1	32	63		25																																																												
2	47		69		47																																																											
3	36			12	15																																																											
4		67		14		23																																																										
5			34	18		25																																																										
6				12	15	19																																																										
7	37		90		12																																																											
8			90	14	16																																																											

Statistik

Nogle tal er forudsigelige, andre uforudsigelige. Uforudsigelige tal kaldes tilfældige tal, random-tal eller stokastiske tal. Stokastiske tal kan dog som regel 'bagudsiges' ved at opstille en statistik over deres hidtidige adfærd. I tabellen opstilles de observerede tal samt hvor hyppigt de enkelte tal er forekommet.	Ordnes observationerne i voksende rækkefølge vil Median = den midterste observation, 1. (3.) kvartil = den midterste observation i 1. (2.) halvdel. Et histogram viser de enkelte observationers hyppigheder. En sumkurve viser den kumulerede frekvens, hvoraf median og kvartiler kan aflæses.
--	--

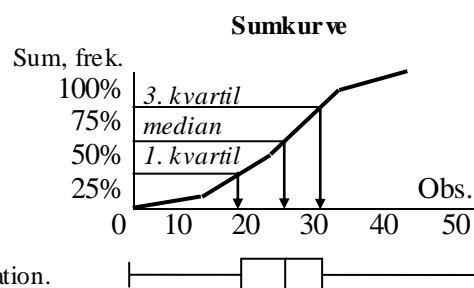


1. Observationer


x: 10, 12, 22, 12, 15, ...

2. Grupper og optælle hyppighed

Observationer	Hyppighed	Frekvens	Sum. frek.
x	h	p	$\sum p$
0-10	3	$3/40 = 0.075$	0.075
10-20	12	0.300	0.375
20-30	18	0.450	0.825
30-50	7	0.175	1.000
Total	40	1.000	

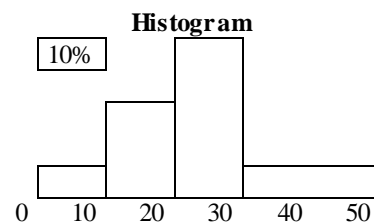


Et **Boksplot** indeholder median og kvartiler samt mindste og største observation.



3. Middeltal eller gennemsnit: Hvis alle observationer var ens ... men de afviger

Observationer	Hyppighed	Frekvens	Summ. frek.	Middeltal
x	h	p	$\sum p$	$m = \sum xi \cdot pi$
0-10	3	$3/40 = 0.075$	0.075	$5 \cdot 0.075 = 0.375$
10-20	12	0.300	0.375	4.5
20-30	18	0.450	0.825	11.25
30-50	7	0.175	1.000	7
Total	40	1.000		23.1



4. Varians, s spredning: Hvis alle afvigelser var ens ...

Observationer	Hyppighed	Frekvens	Summ. frek.	Middeltal	Afvigelse	Varians
x	h	p	$\sum p$	$m = \sum xi \cdot pi$	$ xi - m $	$v = \sum (xi - m)^2 \cdot pi$
0-10	3	$3/40 = 0.075$	0.075	$5 \cdot 0.075 = 0.375$	$ 5 - 23.1 = 18.13$	$18.13^2 \cdot 0.075 = 24.64$
10-20	12	0.300	0.375	4.5	8.13	19.80
20-30	18	0.450	0.825	11.25	1.88	1.58
30-50	7	0.175	1.000	7	16.88	49.83
Total	40	1.000		23.1		$1 s^2 = 95.86$

Spredning $s = \sqrt{95.86} = 9.8$

5. Forudsigelse: $x = \text{Middeltal} \pm 2\text{-spredning} = m \pm 2 \cdot s = 23.1 \pm 19.6$ *Konfidens-interval* = [3.5 ; 42.7]

6. På en formelregner indtastes intervalmidtpunkter under STAT. Frekvens = hyp/sum(hyp). KumFrek = cumsum(frek).

Obs.	Hyp.	Frek.	KumFrek.
0	2	.05	.050
1	5	.125	.175
2	9	.225	.400
3	12	.300	.700
4	8	.200	.900
5	4	.100	1.000

Man kan nu beregne forskellige tal ved hjælp af 1-var statistik:

Middeltal, gennemsnit, $m = 2.8$

Spredning, $s = 1.3$

Konfidens-interval = $m \pm 2 \cdot s = [0.2; 5.4]$

1. kvartil = 2

Median = 3

3. kvartil = 4

Middeltal, gennemsnitstal, forventningstal: Hvis alle observationer var ens. Det er de ikke, de er spredt.

Spredning: Hvis alle spredninger var ens (i forhold til middeltallet).

Konfidens-interval: Omfatter ca. 95% af observationerne, kan bruges til at forudsige nye observationer med.

Sandsynlighedsregning

Gentages et spil med gevinstchance 25% 100 gange, vil der være størst sandsynlighed for at vinde de forventede 25 gange, men større sandsynlighed for at ramme lige ved siden af.	Sandsynlighedsregning forudsiger det uforudsigelige.
---	--

Eksempel 1. Et spil med to udfald, Gevinst og Tab, gentages 5 gange. Teoretisk set har serien 6 mulige udfald, idet vi kan vinde 0, 1, 2, 3, 4, 5 gange. Der er kun 1 vej til at vinde 5 gange: GGGGG, der er 5 veje til at vinde 4 gange idet man kan tabe 1., 2., 3., 4. eller 5. gang: TGGGG, GTGGG, GGTGG, GGGTG, GGGGT.

Hvor mange veje er der til at få Gevinst 3 gange? Vi kan tælle efter eller forudsige resultatet:

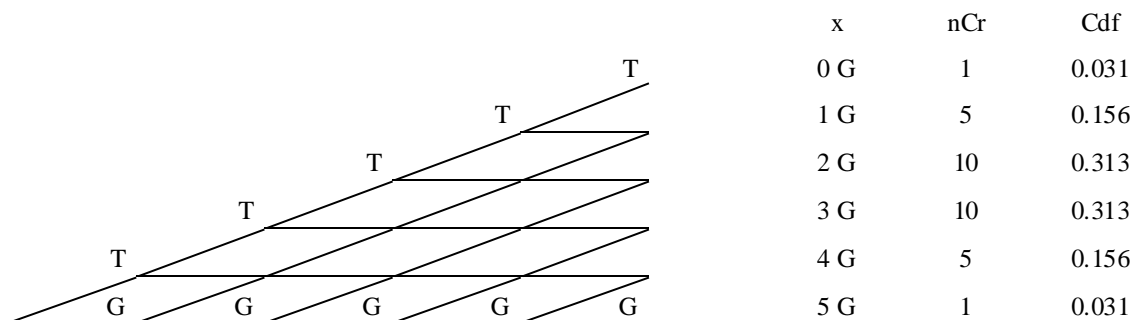
Antal veje til 3 G ud af 5 mulige = $nCr(5,3) = 10$ (nCr findes under Catalog).

De 6 udfald er lige mulige, men ikke lige sandsynlige. Den fordeling som fremkommer ved at gentage et 2-udfalds eksperiment mange gange kaldes en binomial-fordeling. Hvis gevinst-chancen p er 50% = 0.5, så er:

Sandsynligheden for at vinde netop 3 gange af 5: $p(x=3) = \text{BinomCdf}(5,0.5,3,3) = 0.313 = 31.3\%$.

Sandsynligheden for at vinde 2, 3 eller 4 gange af 5: $p(2 \leq x \leq 4) = \text{BinomCdf}(5,0.5,2,4) = 0.718 = 71.8\%$

Der kan nu opstilles en statistik over de forskellige samlede udfald, og af denne kan middelværdi og spredning beregnes. Disse tal kan dog forudsiges af formlerne $m = n \cdot p$ og $s = \sqrt{n \cdot p \cdot (1-p)}$, hvor n er antal gentagelser og p er gevinstchancen.



Eksempel 2. Ved 30 gentagelser af et spil med gevinstchance 2/3 er middeltallet $m = n \cdot p = 30 \cdot 2/3 = 20$.

Spredningen er $s = \sqrt{n \cdot p \cdot (1-p)} = \sqrt{20 \cdot 1/3} = 2.6$. Konfidens-intervallet er da $20 \pm 2 \cdot 2.6 = [14.8; 25.2]$.

Der er altså ca. 95% chance for at der i næste spille-forløb vil være mellem 15 og 25 gevinstgange.

Hvis man kun vinder f.eks. 12 gange må man forkaste en evt. hypotese om at gevinstchancen er 2/3.

Normalfordeling

Gentages spillet mange gange, vil binomialfordelingen begynde at nærme sig til normalfordelingen, som ofte forekommer i naturen, hvor der som regel vil være en vis variation af f.eks. dyrs højde. I sådanne tilfælde kan den stokastiske variable x antage decimalværdier, evt. også negative værdier.

Eksempel 3. Ved 20.000 gentagelser af et spil med 60% gevinstchance er middelværdi $m = n \cdot p = 20000 \cdot 0.60 = 12000$, og spredning $s = \sqrt{n \cdot p \cdot (1-p)} = \sqrt{12000 \cdot 0.40} = 69.3$.

Binomialfordeling: $P(0 < x < 12123) = \text{BinomCdf}(20000, 0.60, 0, 12122) = 0.962 = 96.2\%$

Normalfordeling: $P(0 < x < 12123) = \text{NormCdf}(0, 12123, 12000, 69.3) = 0.962 = 96.2\%$

En normalfordeling vil have en retlinet sumkurve på et normalfordelingspapir.

Opgaver

<ol style="list-style-type: none"> Udfør eksperimentet ovenfor 40 gange som <code>'5*rand()'</code>. Lav statistik. I eksperimentet ovenfor find hyppighederne ved <code>'9*rand()'</code> I eksperimentet ovenfor find hyppighederne ved $nCr(5,0)$, $nCr(5,1)$, $nCr(5,2)$ osv. Udfør de ovenstående beregninger. Beskriv eksempel 1 med $p = 30\%$? Beskriv eksempel 1 med 6 gentagelser. Beskriv eksempel 1 med 8 gentagelser. <code>'when(rand()<0.7,1,0)'</code> er et eksperiment med $p=0.7$. Sammenlagt med sig selv 5 gange svarer det til at udføre eksperimentet i eksempel 1. Udfør det 32 gange og lav statistik på resultatet. Beskriv eksempel 1 med 200 gentagelser og forskellige p-tal. Sammenlign svar fra binomial- og normalfordeling. 	<ol style="list-style-type: none"> En populations vægttal er normalfordelt med middelværdi 13.2 og spredning 2.4. Hvad er sandsynligheden for højst 12.6? mindst 13.5? mellem 13.0 og 14.0? En populations højdetal er normalfordelt med middelværdi 132 og spredning 24. Hvad er sandsynligheden for højst 126? mindst 135? mellem 130 og 140? Opstil nCr-tallene systematisk i ovenstående trekant ved at udbygge nedenstående trekant. Der fremkommer så en trekant med navnet Pascals trekant. Hvilke egenskaber har denne trekant? Hvem var Pascal?
---	---

To ligninger med to ubekendte, tre ditto

To ligninger med to ubekendte kan løses almindeligt, grafisk eller med matricer	$b \text{ kr} + 5 \text{ kg á a kr/kg} = 25$ $b \text{ kr} + 8 \text{ kg á a kr/kg} = 34$	$x + 5*y = 25$ $x + 8*y = 34$	$\begin{pmatrix} 1 & 5 \\ 1 & 8 \end{pmatrix} * \begin{pmatrix} x \\ y \end{pmatrix} = \begin{pmatrix} 25 \\ 34 \end{pmatrix}$
---	--	----------------------------------	--

2 ligninger med 2 ubekendte: Formlen $b \text{ kr} + 5 \text{ kg á a kr/kg} = 25$ indeholder 2 ubekendte og kan derfor ikke løses, men mindre vi kender et andet eksempel på samme formel, f.eks. $b \text{ kr} + 8 \text{ kg á a kr/kg} = 34$.

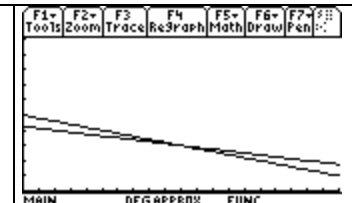
Opskrevet som ligningssystem	Opskrevet som matrix-ligning
$x + 5*y = 25$ $x + 8*y = 34$	$\begin{pmatrix} 1 & 5 \\ 1 & 8 \end{pmatrix} * \begin{pmatrix} x \\ y \end{pmatrix} = \begin{pmatrix} 25 \\ 34 \end{pmatrix}$

Almindelig løsning findes ved hjælp af solve: 'solve ($x + 5*y = 25$ and $x + 8*y = 34$, x)' giver $x=10$ og $y=3$.

Grafisk løsning findes ved at isolere y af ligningerne og indsætte dem i y -editoren.

'Solve($x + 5*y = 25$, y)' giver ' $y = (25-x)/5$ ', og 'Solve($x + 8*y = 34$, y)' giver ' $y = (34-x)/8$ '

Skæringspunktet kan bestemmes med 'graph, F5, Intersection' til $x = 10$ og $y = 3$.



Matrix-løsning findes ved at indtaste de to matricer i matrix-editoren som $mv2$ og $mh2$:

$\underline{V} = \begin{pmatrix} x \\ y \end{pmatrix} = ?$	$\underline{mv2} * \underline{V} = \underline{mh2}$	$\underline{V} = \begin{pmatrix} x \\ y \\ z \end{pmatrix} = ?$	$\underline{mv3} * \underline{V} = \underline{mh3}$
$\underline{mv2} = \begin{pmatrix} 1 & 5 \\ 1 & 8 \end{pmatrix}$	$\underline{V} = \underline{mv2}^{-1} * \underline{mh2}$	$\underline{mv3} = \begin{pmatrix} 2 & 5 & 2 \\ 1 & 0 & -1 \\ 4 & -3 & 6 \end{pmatrix}$	$\underline{V} = \underline{mv3}^{-1} * \underline{mh3}$
$\underline{mh2} = \begin{pmatrix} 25 \\ 34 \end{pmatrix}$	$\underline{V} = \begin{pmatrix} 1 & 5 \\ 1 & 8 \end{pmatrix}^{-1} * \begin{pmatrix} 25 \\ 34 \end{pmatrix}$	$\underline{mh3} = \begin{pmatrix} 18 \\ -2 \\ 16 \end{pmatrix}$	$\underline{V} = \begin{pmatrix} 18 \\ -2 \\ 16 \end{pmatrix}$
Test	$\begin{pmatrix} 1 & 5 \\ 1 & 8 \end{pmatrix} * \begin{pmatrix} 10 \\ 3 \end{pmatrix} = \begin{pmatrix} 25 \\ 34 \end{pmatrix}$	Test	$\begin{pmatrix} 2 & 5 & 2 \\ 1 & 0 & -1 \\ 4 & -3 & 6 \end{pmatrix} * \begin{pmatrix} 1 \\ 2 \\ 3 \end{pmatrix} = \begin{pmatrix} 18 \\ -2 \\ 16 \end{pmatrix}$
	$\begin{pmatrix} 25 \\ 34 \end{pmatrix} = \begin{pmatrix} 25 \\ 34 \end{pmatrix}$		$\begin{pmatrix} 18 \\ -2 \\ 16 \end{pmatrix} = \begin{pmatrix} 18 \\ -2 \\ 16 \end{pmatrix}$

Alternativt indtastes blot 'simult([1,5;1,8],[25;34])'

3 ligninger med 3 ubekendte kan ikke løses grafisk, kun som almindelig løsning eller matrix-løsning:

Opskrevet som ligningssystem	Opskrevet som matrix-ligning
$3*x + 5*y + 2*z = 19$ $x - z = -2$ $4*x - 3*y + 6*z = 16$	$\begin{pmatrix} 3 & 5 & 2 \\ 1 & 0 & -1 \\ 4 & -3 & 6 \end{pmatrix} * \begin{pmatrix} x \\ y \\ z \end{pmatrix} = \begin{pmatrix} 19 \\ -2 \\ 16 \end{pmatrix}$

En matrix-løsning findes ved at indtaste de to matricer i matrix-editoren som $mv3$ og $mh3$.

4 ligninger med 4 ubekendte, 5 ligninger med 5 ubekendte osv.: Ligesom 3 ligninger med 3 ubekendte

Ligningssystemer til træning kan fremstilles af tallene fra f.eks. 'randMat(3,3)' og 'randMat(3,1)'.

Opgaver. Løs ligningssystemerne

1. $4x - 1*y = -9$ $4x - 4*y = 0$	5. $-7*x - 3*y - 7*z = 3$ $-1*x - 5*y + 1*z = -13$ $9*y - 5*z = 36$	8. $2*x + 5*y - 1*z + 9t = 118$ $1*x + 1*y - 9*z - 5t = -88$ $-3*y + 7*z + 5t = -51$ $-3*x + 5*y + 2*z - 5t = -10$
2. $4x + 2*y = 16$ $5x - 3*y = -2$	6. $4*x + 3*y + 7*z = 81$ $5*x + 3*y + 1*z = 54$ $2*x + 9*y + 5*z = 57$	9. $-6*x - 1*y + 8*z + 8t = 129$ $-2*x + 2*y - 5*z + 7t = 60$ $8*x + 6*y + 3*z + 3t = -40$ $-7*x - 4*y - 8*z - 4t = 12$
3. $7x + 4*y = -1$ $-3x + 2*y = 19$	7. $2*x + 3*y - 1*z = -6$ $5*x + 3*y - 4*z = -15$ $2*x - 2*y + 5*z = 40$	
4. $2x - 5*y = 16$ $3x - 4*y = 17$		

Den kvantitative litteratur: Matematiske modeller

Den klassiske kvantitative litteratur er geometri og algebra. Hertil kommer den moderne kvantitative litteratur, skabt af spørgsmål, som kommer fra produktionen: Hvordan hentes sølv og kul op fra minegangene? Hvordan navigeres på havet? Hvordan bygges maskiner? Hvordan optimeres en produktion? Hvordan optimeres profitten? Osv.

Der regnes på, hvordan sølv og vand løftes op af minerne, og hvordan sølv og vand forvandles til sølv af forskellig renhedsgrad. Sølvet begiver sig nu på rejse ned ad de tyske floder til Italien, hvorfra købmænd er kommet for at bytte klæde og vin med sølv. Undervejs passeres adskillige borge beliggende på høje bjerge. Købmændene må aflevere sølv som told- og beskyttelsesafgifter, men vinder det tilbage igen gennem spil. Fra Italien rejser sølv videre når købmændene bytter det med Østens efterspurgte varer, krydderi og silke, enten via den dyre vej over land transporteret af karavaner, eller via den billige vej over hav transporteret af arabiske købmænd i Egypten. Så Italiens rigdomme hober sig op først gennem handel og senere gennem bankudlån. I banken får man brug for at kunne lægge renter sammen og udvikler derfor potensregningen og opdager herved rentes-renten: $7 \text{ år} \times 6\% = 42\% \text{ rente} + 8\% \text{ rentes-rente} = 50\%$ da $106\%^7 = 150\%$.

En stor del af fortjenesten går til forbrug af prægtige paladser overalt i Renæssancens Italien, og til ansættelse af kunstnere og filosoffer. Italien bliver udkonkurreret af Portugal, som kan nedsætte prisen på peber til $1/3$ ved at overspringe mellemhandlerne og selv at hente Østens varer hjem over havet på egne skibe som sejler rundt om Afrika. Spanien forsøger at finde en anden vej til Indien ved at sejle mod vest. Men i Vest-Indien er der hverken krydderi eller silke, derimod rigeligt med sølv og guld. Paven deler den nye verden mellem Spanien og Portugal. Portugal får alt øst for den 60. længdegrad, Spanien alt vest for. I Spanien og Portugal går fortjenesten til forbrug gennem bygning af kirker og klostre og palæer. I England går fortjenesten til at købe aktier for og etablere industriel produktion.

De tre genrer: Fakta, fiktion og fidus

Både kvalitativ og kvantitativ litteratur kan opdeles i tre genrer: Fakta, fiktion og fidus.

Eksempler på de tre kvalitative genrer er

Fakta: 'DA København ligger på Sjælland, SÅ ligger København lavt'

Fiktion: 'HVIS København lå i alperne, SÅ lå København højt'.

Fidus: 'HVIS København ligger først i sætningen, så ligger den lavt.'

Fakta

Fakta er 'DaSå' beregninger, som kvantificerer det kvantificerbare, og beregner det beregnelige:

'DA prisen er 4 kr./kg, SÅ koster 6 kg $6 \times 4 = 24$ kr.'

DaSå beregninger kunne også kaldes FritFalds-beregninger:

'DA accelerationen er 9.8 m/s^2 , SÅ vil hastighedstilvæksten på 5 sekunder være $5 \times 9.8 = 49 \text{ m/s}$ '.

Eller Rum-beregninger:

'DA rummet har dimensionerne $3 \text{ m} \times 4 \text{ m} \times 5 \text{ m}$, SÅ er rumfanget $V = 3 \text{ m} \times 4 \text{ m} \times 5 \text{ m} = 60 \text{ m}^3$ '.

Fakta-beregninger kontrolberegnes:

$T = 3 \text{ kg} \cdot 4 \text{ kr./kg} = 3 \times 4 \text{ kr.} = 12 \text{ kr.}$, hov regnefejl, $T = 15 \text{ kr.}$

Et eksempel er regnefejlen som fik marssonden Mars Climate Orbiter til at falde ned: $2 \text{ cm} + 3 \text{ to mmer} = 5 \text{ cm}$

Fiktion

Fiktion er 'HvisSå' beregninger, som kvantificerer det kvantificerbare, og beregner det uberegnelige:

'HVIS indkomsten er 4 mio \$/år, SÅ vil 6 års indkomst være $6 \times 4 = 24$ mio \$'.

HvisSå beregninger kunne også kaldes Affalds-beregninger:

'HVIS affaldsmængden er 9.8 kg/dag , SÅ vil arbejdsugens affald være $5 \times 9.8 = 49 \text{ kg}$ '.

Eller Rate-beregninger:

'HVIS vækstraten er 3% pr. år, SÅ vil den samlede vækstrate efter 5 år være 15.9%, da $103\%^5 = 115.9\%$ '.

Fiktions-beregninger scenarieberegnes:

Indkomsten skønnes at ville ligge mellem 4 kr./dag og 5 kr./dag , så 3 dages indkomst vil ligge mellem 12 kr. og 15 kr., da $T = 3 \text{ dage} \times 4 \text{ kr./dag} = 12 \text{ kr.}$, og $T = 3 \text{ dage} \times 5 \text{ kr./dag} = 15 \text{ kr.}$

Fidus

Fidus er 'HvadSå' beregninger, som kvantificerer ikke-kvantificerbare kvaliteter:

'HVIS konsekvensen $K = \text{'brækket ben'}$ sættes til 2 mio \$, og HVIS sandsynligheden S sættes til 30%, SÅ vil risikoen være $R = K \times S = 2 \times 0.3 = 0.6$ mio \$. Og HVADSÅ? Hvem siger at et brækket ben koster 2 mio. kr.? Og hvem siger at sandsynligheden for at brække et ben overhovedet kan måles?'

HvadSå beregninger kunne også kaldes Dødsfalds-beregninger:

'HVIS omkostningen ved en gravplads er 10 kr./dag , og omkostningen ved en hospitalsplads er 10.000 kr./dag , SÅ er det billigere at have folk liggende på kirkegården end på hospitalet. Og HVADSÅ, betyder det at hastighedsgrænsen så skal sættes op til 200 km/time for at spare penge?'

Eller Risiko-beregninger:

'HVIS vi kan øge sandsynligheden for dødsfald og mindske sandsynligheden for kvæstelse, SÅ vil risikoen ved skolevejen kunne nedsættes. Og HVADSÅ? Betyder det at vi skal nedlægge fodgængerfeltet?'

Fidus-beregninger afvises og henvises til kvalitativ behandling: 'Risiko = $30\% \times 5 \text{ mio}$. Og HVADSÅ, en oplysnings-kampagne kan nedsætte sandsynligheden, og hvem siger at et brækket ben koster 5 mio. kr.?'

Fidus-beregninger afvises og henvises fra kvantitativ italsættelse i talsproget til kvalitativ itale-sættelse i talesproget.

Bogstavregning

Lav en T-formel om til en a-formel. Test resultatet ved indsætning, ved solve og ved at gøre det modsatte bagefter.

	T	a	b	c
1	$T = a + b \cdot c$	$a = T - b \cdot c$	$b = \frac{T-a}{c}$	$c = \frac{T-a}{b}$
2	$T = a - b \cdot c$	$a = T + b \cdot c$	$b = \frac{a-T}{c}$	$c = \frac{a-T}{b}$
3	$T = a + \frac{b}{c}$	$a = T - \frac{b}{c}$	$b = (T-a) \cdot c$	$c = \frac{b}{T-a}$
4	$T = a - \frac{b}{c}$	$a = T + \frac{b}{c}$	$b = (a-T) \cdot c$	$c = \frac{b}{a-T}$
5	$T = (a + b) \cdot c$	$a = \frac{T}{c} - b$	$b = \frac{T}{c} - a$	$c = \frac{T}{a+b}$
6	$T = (a - b) \cdot c$	$a = \frac{T}{c} + b$	$b = a - \frac{T}{c}$	$c = \frac{T}{a-b}$
7	$T = \frac{a+b}{c}$	$a = T \cdot c - b$	$b = T \cdot c - a$	$c = \frac{a+b}{T}$
8	$T = \frac{a-b}{c}$	$a = T \cdot c + b$	$b = a - T \cdot c$	$c = \frac{a-b}{T}$
9	$T = \frac{a}{b+c}$	$a = T \cdot (b+c)$	$b = \frac{a}{T} - c$	$c = \frac{a}{T} - b$
10	$T = \frac{a}{b-c}$	$a = T \cdot (b-c)$	$b = \frac{a}{T} + c$	$c = b - \frac{a}{T}$
11	$T = \frac{a}{b} + c$	$a = (T-c) \cdot b$	$b = \frac{a}{T-c}$	$c = T - \frac{a}{b}$
12	$T = \frac{a}{b} - c$	$a = (T+c) \cdot b$	$b = \frac{a}{T+c}$	$c = \frac{a}{b} - T$
13	$T = a \cdot b^c$	$a = \frac{T}{b^c}$	$b = \sqrt[c]{\frac{T}{a}}$	$c = \frac{\ln(\frac{T}{a})}{\ln b}$
14	$T = \frac{a}{b^c}$	$a = T \cdot b^c$	$b = \sqrt[c]{\frac{a}{T}}$	$c = \frac{\ln(\frac{a}{T})}{\ln b}$
15	$T = (a \cdot b)^c$	$a = \frac{\sqrt[c]{T}}{b}$	$b = \frac{\sqrt[c]{T}}{a}$	$c = \frac{\ln T}{\ln(a \cdot b)}$
16	$T = (\frac{a}{b})^c$	$a = \sqrt[c]{T} \cdot b$	$b = \frac{a}{\sqrt[c]{T}}$	$c = \frac{\ln T}{\ln(\frac{a}{b})}$
17	$T = (a + b)^c$	$a = \sqrt[c]{T} - b$	$b = \sqrt[c]{T} - a$	$c = \frac{\ln T}{\ln(a+b)}$
18	$T = (a - b)^c$	$a = \sqrt[c]{T} + b$	$b = a - \sqrt[c]{T}$	$c = \frac{\ln T}{\ln(a-b)}$
19	$T = a + b^c$	$a = T - b^c$	$b = \sqrt[c]{T-a}$	$c = \frac{\ln(T-a)}{\ln b}$
20	$T = a - b^c$	$a = T + b^c$	$b = \sqrt[c]{a-T}$	$c = \frac{\ln(a-T)}{\ln b}$
21	$T = a^{(b+c)}$	$a = (b+c) \sqrt{T}$	$b = \frac{\ln T}{\ln a} - c$	$c = \frac{\ln T}{\ln a} - b$
22	$T = a^{(b-c)}$	$a = (b-c) \sqrt{T}$	$b = \frac{\ln T}{\ln a} + c$	$c = b - \frac{\ln T}{\ln a}$

Statistikopgaver

1	MID SPR KVT							svar: MID SPR KVT					
	x	h	p	$\sum p$	x·p	x-M	(x-M) ² ·p	p	$\sum p$	x·p	x-M	(x-M) ² ·p	
	10-30	3						0,130	0,130	2,6	23,0	69,3	
	30-40	5						0,217	0,348	7,6	8,0	14,1	35,5
	40-50	9						0,391	0,739	17,6	2,0	1,5	43,9
	50-60	4						0,174	0,913	9,6	12,0	24,9	50,6
	60-70	2						0,087	1,000	5,7	22,0	41,9	
								1,000		43,0		151,6	
								MID±2·SPR:		18,4	67,7	12,3	

2	MID SPR KVT							MID SPR KVT					
	x	h	p	$\sum p$	x·p	x-M	(x-M) ² ·p	p	$\sum p$	x·p	x-M	(x-M) ² ·p	
	0-10	3						0,077	0,077	0,4	21,5	35,7	
	10-20	9						0,231	0,308	3,5	11,5	30,7	17,5
	20-30	12						0,308	0,615	7,7	1,5	0,7	26,3
	30-40	11						0,282	0,897	9,9	8,5	20,2	34,8
	40-60	4						0,103	1,000	5,1	23,5	56,5	
								1,000		26,5		143,8	
								MID±2·SPR:		2,6	50,5	12,0	

3	MID SPR KVT							MID SPR KVT					
	x	h	p	$\sum p$	x·p	x-M	(x-M) ² ·p	p	$\sum p$	x·p	x-M	(x-M) ² ·p	
	30-40	12						0,203	0,203	7,1	10,8	23,7	
	40-45	14						0,237	0,441	10,1	3,3	2,6	41,0
	45-50	16						0,271	0,712	12,9	1,7	0,8	46,1
	50-55	10						0,169	0,881	8,9	6,7	7,6	51,1
	55-60	7						0,119	1,000	6,8	11,7	16,2	
								1,000		45,8		50,9	
								MID±2·SPR:		31,5	60,1	7,1	

4	MID SPR KVT							MID SPR KVT					
	x	h	p	$\sum p$	x·p	x-M	(x-M) ² ·p	p	$\sum p$	x·p	x-M	(x-M) ² ·p	
	20-22	2						0,091	0,091	1,9	4,4	1,8	
	22-24	4						0,182	0,273	4,2	2,4	1,1	23,8
	24-26	8						0,364	0,636	9,1	0,4	0,1	25,3
	26-28	5						0,227	0,864	6,1	1,6	0,6	27,0
	28-32	3						0,136	1,000	4,1	4,6	2,9	
								1,000		25,4		6,3	
								MID±2·SPR:		20,4	30,4	2,5	

Ikke retvinklede trekanter

	svar						svar					
	a	b	c	A	B	C	a	b	c	A	B	C
1	1,075			33,3		122,8		0,794	1,646		23,9	
2	2,212			42,5		133,1		0,252	2,392		4,4	
3	3,736			62,5		88,2		2,060	4,209		29,3	
4		4,372		51,0		76,8	4,298		5,383		52,2	
5		1,437		65,9		98,2	4,810		5,214		15,8	
6		4,903		21,5		87,0	1,893		5,162		71,5	
7			2,154	35,1		68,6	1,330	2,249			76,3	
8			2,256	38,4		46,1	1,945	3,118			95,6	
9			2,568	23,2		47,1	1,382	3,302			109,7	
10	1,740	3,541				68,6			3,327	29,1	82,3	
11	1,433	4,346				88,0			4,528	18,4	73,6	
12	4,298	5,724				57,3			4,966	46,8	75,9	
13		5,092	3,738	47,0			3,736				85,9	47,1
11		2,552	3,818	59,0			3,326				41,1	79,8
15		3,940	3,708	59,3			3,787				63,4	57,3
16	4,298		5,030		42,9			3,479		57,3		79,8
17	4,861		4,437		81,9			6,100		52,1		46,1
18	2,917		4,835		77,3			5,067		34,2		68,6

POLYNOMIER, MM.

	POTENSER	f'	f''	f	f'	f''
1	x^3			$3x^2 - 4x + 2$		
2	x^5	$3x^2$	$6x$	$4x^2 + 3x - 6$	$6x - 4$	6
3	x^8	$5x^4$	$20x^3$	$2x^3 - 6x^2 + 3x - 7$	$8x + 3$	8
4	$x^{\frac{1}{2}}$	$8x^{\frac{1}{2}}$	$56x^{\frac{1}{2}}$	$5x^3 + 4x^2 - 6x + 1$	$6x^2 - 12x + 3$	$12x - 12$
5	x^{-3}	$\frac{1}{2}x^{-\frac{1}{2}}$	$-\frac{1}{4}x^{-1,5}$	$2x - 7$	$15x^2 + 8x - 6$	$30x + 8$
6	x^{-1}	$-3x^{-4}$	$12x^{-5}$	$x + 3$	2	0
7	$x^{-1,5}$	$-x^{-2}$	$2x^{-3}$	$7x^4 - 6x^2 + 2$	1	0
8	x	$-1,5x^{-2,5}$	$3,75x^{-3,5}$	$2x^3 - 5x$	$28x^3 - 12x$	$84x^2 - 12$
9	\sqrt{x}	1	0	$4/x + 5/x^2$	$6x^2 - 5$	12x
10	$3\sqrt{x}$	$\frac{1}{2}x^{-\frac{1}{2}}$	$-\frac{1}{4}x^{-1,5}$	$3/x - 2/x^2$	$-4x^{-2} - 10x^{-3}$	$8x^{-3} + 30x^{-4}$
11	$1/x^2$	$\frac{1}{3}x^{-2/3}$	$-\frac{2}{9}x^{-5/3}$	$1/x - 4/x^2 + 5/x^3$	$-3x^{-2} + 4x^{-3}$	$6x^{-3} - 12x^{-4}$
12	$1/x^4$	$-2x^{-3}$	$6x^{-4}$	$4\sqrt{x} + 2/\sqrt{x}$	$-x^{-2} + 8x^{-3} - 15x^{-4}$	$2x^{-3} - 24x^{-4} + 60x^{-5}$
13	$x\sqrt{x}$	$-4x^{-5}$	$20x^{-6}$	$8\sqrt{x} - 4/\sqrt{x}$	$2x^{-0,5} - x^{-1,5}$	$-x^{-1,5} + 1,5x^{-2,5}$
14	$x^2\sqrt{x}$	$1,5x^{0,5}$	$0,75x^{-0,5}$	$2x\sqrt{x} + 6x^2\sqrt{x}$	$4x^{-0,5} + 2x^{-1,5}$	$-2x^{-1,5} - 3x^{-2,5}$
15	$1/\sqrt{x}$	$2,5x^{1,5}$	$3,75x^{0,5}$	$4x\sqrt{x} - 2x^2\sqrt{x}$	$3x^{0,5} + 15x^{1,5}$	$1,5x^{-0,5} + 22,5x^{0,5}$
16	$1/x\sqrt{x}$	$-\frac{1}{2}x^{-1,5}$	$0,75x^{-2,5}$	-----	$6x^{0,5} - 5x^{1,5}$	$3x^{-0,5} - 7,5x^{0,5}$

POTENSER

POTENSER	SVAR	f	stigningsforhold (monotoni)
1 $\int_1^3 x \, dx$	4	$x^2 - 8x + 5$	$\frac{-}{4} \frac{0}{1} \frac{+}{4} \xrightarrow{f'}$
2 $\int_0^2 x^2 \, dx$	2,67	$-3x^2 + 12x - 6$	$\frac{+}{2} \frac{0}{2} \frac{-}{2} \xrightarrow{f'}$
3 $\int_1^3 x^3 \, dx$	20	$2x^3 - 15x^2 + 24x - 6$	$\frac{+}{1} \frac{0}{1} \frac{-}{1} \frac{+}{4} \xrightarrow{f'}$
4 $\int_0^2 x \sqrt{x} \, dx$	1,89	$-x^3 + 3x^2 + 9x + 1$	$\frac{-}{-1} \frac{0}{3} \frac{+}{3} \xrightarrow{f'}$
5 $\int_1^2 x \sqrt[3]{x} \, dx$	1,86	$x^4 - 4x^3 + 4x^2 + 3$	$\frac{-}{-1} \frac{0}{1} \frac{+}{2} \frac{-}{2} \xrightarrow{f'}$
6 $\int_1^4 \frac{1}{\sqrt{x}} \, dx$	2	$-x^4 + 4x^3 + 8x^2 - 1$	$\frac{+}{-1} \frac{0}{0} \frac{-}{1} \frac{+}{2} \xrightarrow{f'}$
7 $\int_1^4 \frac{1}{x \sqrt{x}} \, dx$	1	$\frac{x^2 + 3}{x^2 - 4}$	$\frac{+}{-1} \frac{0}{-1} \frac{-}{0} \frac{+}{4} \xrightarrow{f'}$
8 $\int_1^3 \frac{1}{x^2} \, dx$	0,67		
9 $\int_1^3 6x \, dx$			
10 $\int_0^2 -12x^2 \, dx$			
11 $\int_1^3 4x^3 \, dx$			
12 $\int_0^2 -6 \sqrt{x} \, dx$			
13 $\int_1^4 5x \sqrt{x} \, dx$			
14 $\int_1^2 -3/\sqrt{x} \, dx$			
15 $\int_1^4 4/x \sqrt{x} \, dx$			
16 $\int_1^3 -5/x^2 \, dx$			

POLYNOMIER, MM.

POLYNOMIER, MM.	SVAR	f	stigningsforhold (monotoni)
1 $\int_1^2 (6x^2 - 4x + 2) \, dx$	24		
2 $\int_2^3 (16x^3 + 9x^2 - 4) \, dx$	-32		
3 $\int_3^4 (3x^{-2} - 4x^{-3}) \, dx$	80		
4 $\int_1^2 (2x^{-3} + 6x^{-4}) \, dx$	-11,3		
5 $\int_1^3 (3x^{0,5} + 10x^{1,5}) \, dx$	62		
6 $\int_2^4 (5x^{-0,5} - 7x^{2,5}) \, dx$	-2,49		
7 $\int_1^5 (3x^2 + 3\sqrt{x} + 5/x^2) \, dx$	4		
8 $\int_1^2 (12x^3 - 5x\sqrt{x} - 6/x\sqrt{x}) \, dx$	-3,33		

Polynomier af grad 2

	f(x)	f(3)	Nulpunkter		f(x)	f(x)=0	f'(x)	Stamfunktion F(x)	Toppunkt		Tangent i x = 2	∫ f dx fra 1 til 2	Fortegn	Faktoropløsning
1	$x^2 - 6x + 5$	-4	1	5	$2x - 6$	3	2	$0,33x^3 - 3x^2 + 5x + k$	3	-4	$y = -2x + 1$	-1,67	+ - +	$(x-1)(x-5)$
2	$x^2 - 3x + 2$	2	1	2	$2x - 3$	1,5	2	$0,33x^3 - 1,5x^2 + 2x + k$	1,5	-0,3	$y = +1x - 2$	-0,17	+ - +	$(x-2)(x-1)$
3	$2x^2 - 10x + 12$	0	2	3	$4x - 10$	2,5	4	$0,67x^3 - 5x^2 + 12x + k$	2,5	-0,5	$y = -2x + 4$	1,67	+ - +	$2(x-3)(x-2)$
4	$2x^2 - 6x - 8$	-8	-1	4	$4x - 6$	1,5	4	$0,67x^3 - 3x^2 - 8x + k$	1,5	-13	$y = +2x - 16$	-12,33	+ - +	$2(x-4)(x+1)$
5	$3x^2 - 18x + 15$	-12	1	5	$6x - 18$	3	6	$1,00x^3 - 9x^2 + 15x + k$	3	-12	$y = -6x + 3$	-5,00	+ - +	$3(x-5)(x-1)$
6	$3x^2 - 24x + 36$	-9	2	6	$6x - 24$	4	6	$1,00x^3 - 12x^2 + 36x + k$	4	-12	$y = -12x + 24$	7,00	+ - +	$3(x-6)(x-2)$
7	$4x^2 - 40x + 84$	0	3	7	$8x - 40$	5	8	$1,33x^3 - 20x^2 + 84x + k$	5	-16	$y = -24x + 68$	33,33	+ - +	$4(x-7)(x-3)$
8	$4x^2 - 40x + 64$	-20	2	8	$8x - 40$	5	8	$1,33x^3 - 20x^2 + 64x + k$	5	-36	$y = -24x + 48$	13,33	+ - +	$4(x-8)(x-2)$
9	$-4x^2 - 12x - 8$	-80	-1	-2	$-8x - 12$	-1,5	-8	$-1,33x^3 - 6x^2 - 8x + k$	-1,5	1	$y = -28x + 8$	-35,33	- + -	$-4(x+1)(x+2)$
10	$-4x^2 - 4x + 8$	-40	1	-2	$-8x - 4$	-0,5	-8	$-1,33x^3 - 2x^2 + 8x + k$	-0,5	9	$y = -20x + 24$	-7,33	- + -	$-4(x+2)(x-1)$
11	$-3x^2 - 6x + 9$	-36	1	-3	$-6x - 6$	-1	-6	$-1,00x^3 - 3x^2 + 9x + k$	-1	12	$y = -18x + 21$	-7,00	- + -	$-3(x+3)(x-1)$
12	$-3x^2 - 6x + 24$	-21	2	-4	$-6x - 6$	-1	-6	$-1,00x^3 - 3x^2 + 24x + k$	-1	27	$y = -18x + 36$	8,00	- + -	$-3(x+4)(x-2)$
13	$-2x^2 - 4x + 30$	0	3	-5	$-4x - 4$	-1	-4	$-0,67x^3 - 2x^2 + 30x + k$	-1	32	$y = -12x + 38$	19,33	- + -	$-2(x+5)(x-3)$
14	$2x^2 + 8x - 24$	18	-6	2	$4x + 8$	-2	4	$0,67x^3 + 4x^2 - 24x + k$	-2	-32	$y = +16x - 32$	-7,33	+ - +	$2(x+6)(x-2)$
15	$3x^2 + 18x - 21$	60	-7	1	$6x + 18$	-3	6	$1,00x^3 + 9x^2 - 21x + k$	-3	-48	$y = +30x - 33$	13,00	+ - +	$3(x+7)(x-1)$
16	$x^2 + 6x - 16$	11	-8	2	$2x + 6$	-3	2	$0,33x^3 + 3x^2 - 16x + k$	-3	-25	$y = +10x - 20$	-4,67	+ - +	$(x+8)(x-2)$

Polynomier af grad 3

	f(x)	Faktoropløsning	Nulpunkter			Toppunkter		Tangent i x = 2	f(4)	Fortegn	Diff.	Stamfunktion F(x)
1	$x^3 - 2x^2 - 5x + 6$	$(x-1)(x+2)(x-3)$	1	-2	3	-0,79	2,12	$y = -1 \cdot x + -2$	18	- + - +	$3x^2 - 4x - 5$	$0,25x^4 - 0,67x^3 - 2,50x^2 + 6x + k$
2	$x^3 - 6x^2 + 11x - 6$	$(x-1)(x-2)(x-3)$	1	2	3	8,21	-4,06	$y = -1 \cdot x + 2$	6	- + - +	$3x^2 - 12x + 11$	$0,25x^4 - 2,00x^3 + 5,50x^2 - 6x + k$
3	$2x^3 - 8x^2 - 22x + 60$	$2(x-2)(x+3)(x-5)$	2	-3	5	1,42	2,58	$y = -30 \cdot x + 60$	-28	- + - +	$6x^2 - 16x - 22$	$0,5x^4 - 2,67x^3 - 11,00x^2 + 60x + k$
4	$2x^3 - 20x^2 + 62x - 60$	$2(x-2)(x-3)(x-5)$	2	3	5	0,38	-0,38	$y = +6 \cdot x + -12$	-4	- + - +	$6x^2 - 40x + 62$	$0,5x^4 - 6,67x^3 + 31,00x^2 - 60x + k$
5	$3x^3 - 18x^2 - 57x + 252$	$3(x-3)(x+4)(x-7)$	3	-4	7	1,26	-4,23	$y = -93 \cdot x + 276$	-72	- + - +	$9x^2 - 36x - 57$	$0,75x^4 - 6,00x^3 - 28,50x^2 + 252x + k$
6	$3x^3 - 42x^2 + 183x - 252$	$3(x-3)(x-4)(x-7)$	3	4	7	-1,21	5,21	$y = +51 \cdot x + -132$	0	- + - +	$9x^2 - 84x + 183$	$0,75x^4 - 14,00x^3 + 91,50x^2 - 252x + k$
7	$4x^3 - 32x^2 - 116x + 720$	$4(x-4)(x+5)(x-9)$	4	-5	9	289,30	-109,30	$y = -196 \cdot x + 784$	0	- + - +	$12x^2 - 64x - 116$	$1x^4 - 10,67x^3 - 58,00x^2 + 720x + k$
8	$4x^3 - 72x^2 + 404x - 720$	$4(x-4)(x-5)(x-9)$	4	5	9	2,64	-18,19	$y = +164 \cdot x + -496$	0	- + - +	$12x^2 - 144x + 404$	$1x^4 - 24,00x^3 + 202,00x^2 - 720x + k$
9	$-4x^3 + 24x^2 + 76x - 336$	$-4(x+4)(x-3)(x-7)$	-4	3	7	4,51	-52,51	$y = +124 \cdot x + -368$	96	+ - + -	$-12x^2 + 48x + 76$	$-1x^4 + 8,00x^3 + 38,00x^2 - 336x + k$
10	$-4x^3 + 8x^2 + 76x - 80$	$-4(x+4)(x-1)(x-5)$	-4	1	5	5,21	-1,21	$y = +60 \cdot x + -48$	96	+ - + -	$-12x^2 + 16x + 76$	$-1x^4 + 2,67x^3 + 38,00x^2 - 80x + k$
11	$-3x^3 + 12x^2 + 33x - 90$	$-3(x+3)(x-2)(x-5)$	-3	2	5	145,74	-385,74	$y = +45 \cdot x + -90$	42	+ - + -	$-9x^2 + 24x + 33$	$-0,75x^4 + 4,00x^3 + 16,50x^2 - 90x + k$
12	$-3x^3 + 6x^2 + 33x - 36$	$-3(x+3)(x-1)(x-4)$	-3	1	4	3,27	-1,94	$y = +21 \cdot x + -12$	0	+ - + -	$-9x^2 + 12x + 33$	$-0,75x^4 + 2,00x^3 + 16,50x^2 - 36x + k$
13	$-2x^3 + 4x^2 + 10x - 12$	$-2(x+2)(x-1)(x-3)$	-2	1	3	114,20	-168,13	$y = +2 \cdot x + 4$	-36	+ - + -	$-6x^2 + 8x + 10$	$-0,5x^4 + 1,33x^3 + 5,00x^2 - 12x + k$
14	$-2x^3 + 4x^2 + 10x - 12$	$-2(x+2)(x-1)(x-3)$	-2	1	3	2,12	-0,79	$y = +2 \cdot x + 4$	-36	+ - + -	$-6x^2 + 8x + 10$	$-0,5x^4 + 1,33x^3 + 5,00x^2 - 12x + k$
15	$-x^3 - 4x^2 + 7x + 10$	$-(x+1)(x+5)(x-2)$	-1	-5	2	8,12	-16,42	$y = -21 \cdot x + 42$	-90	+ - + -	$-3x^2 - 8x + 7$	$-0,25x^4 - 1,33x^3 + 3,50x^2 + 10x + k$
16	$-x^3 + 7x^2 - 4x - 12$	$-(x+1)(x-6)(x-2)$	-1	6	2	0,69	-3,36	$y = +12 \cdot x + -24$	20	+ - + -	$-3x^2 + 14x - 4$	$-0,25x^4 + 2,33x^3 - 2,00x^2 - 12x + k$

Oversigt over matematik på B-niveau

Matematik (Viden – til tal-forudsigtelse)

Algebra (Genforening af tal)

- Tal
 - Græske tal: bogstaver. Kan tælle, ikke plusse
 - Romerske tal: Ikoner. Kan plusse, ikke gange
 - Arabertal: Bundtning i polynomier. Kan gange: $23 \cdot 74 = (20+3) \cdot (70+4) = 1400 + 210 + 80 + 12 = 1702$ (FOIL, renæssance)
- Tal-forening og tal-opdeling (ligninger)
 - Plusning af uens styktal, gange af ens styktal, potens ved ens pertal, integration ved uens pertal
 - Minus i uens styktal, division i ens styktal, rod/logaritme i ens pertal, differentiation i uens pertal
- Tal-ændring, vækst

Væksttal, tilvækst $\Delta y = y_2 - y_1$

Vækstfaktor, indeks $I_y = y_2 / y_1 = a = 1 + r$, r: vækstprocent, rente

Konstant vækst (PreCalculus)

Lineær vækst, ++ vækst: Konstant hældning a: $\Delta y = a \cdot \Delta x$, $(y_2 - y_1) = a \cdot (x_2 - x_1)$,

Ekspontiel vækst, +* vækst: Konstant vækstfaktor a: $I_y = a^{\Delta x}$, $y_2 / y_1 = a^{(x_2 - x_1)}$,

Potensvækst, ** vækst: Konstant elasticitet a: $I_y = I_x^a$: $y_2 / y_1 = (x_2 / x_1)^a$,

Variabel forudsigelig vækst (Calculus)

Differentiel vækst (fiktion): Lokalt konstant hældning a: $dy/dx = a = y' = \lim(\Delta y / \Delta x)$ for $\Delta x \rightarrow 0$

Integration (fakta): Samlet tilvækst = sum af enkelt-tilvækster = Slut-y – begyndelses-y:

Variabel uforudsigelig vækst (Statistik & Sandsynlighed)

Niveau & variation: X-gennemsnit & X-spredning (fiktion), eller X-kvartiler med bokspot (fakta)

n gentagelser med gevinstchance p (binomialfordeling): X-gennemsnit = $n \cdot p$ & X-spredning = $\sqrt{n \cdot p \cdot (1-p)}$

$$\Delta y = \sum \Delta y = \int dy$$

$$1+R = (1+r)^n$$

$$y = b + a \cdot x$$

$$y = b \cdot a^x$$

$$y = b \cdot x^a$$

$$\Delta y = \sum dy = y_2 - y_1$$

Geometri (Jordmåling)

Koordinat-fri geometri

Mangekanter kan opdeles i trekanter, som kan opdeles i retvinklede trekanter: sinus & cosinus, tangens & sekant

CAS-Teknologi: Formelregner TI-89

Ligningsløsning: I hovedet ved overflytning. Algebraisk ved solver: solve($y_1(x) = y_2(x), x$). Geometrisk ved skæring $y_1 = y_2$